



ข้อสอบปลายภาคเรียนที่ 1

กลุ่มสาระ คณิตศาสตร์

วิชา คณิตศาสตร์

ชั้นประถมศึกษาปีที่ 5 จำนวน 15 ข้อ

ให้กาเครื่องหมาย ✕ ทับตัวอักษรหน้าคำตอบที่ถูกต้อง

1. เศษส่วนในข้อใดมีค่าเท่ากับ $3\frac{7}{9}$

ก. $\frac{31}{9}$

ข. $\frac{32}{9}$

ค. $\frac{33}{9}$

ง. $\frac{34}{9}$

2. เศษส่วนชุดใดเรียงลำดับจากน้อยไปมาก

ก. $\frac{3}{4}$, $\frac{1}{2}$, $\frac{5}{8}$

ข. $\frac{2}{3}$, $\frac{7}{12}$, $\frac{1}{2}$

ค. $\frac{11}{30}$, $\frac{7}{15}$, $\frac{3}{5}$

ง. $\frac{1}{3}$, $\frac{5}{9}$, $\frac{6}{18}$

3. $\frac{5}{7} + \frac{4}{14}$ ผลบวกเท่ากับข้อใด

ก. 2

ข. 1

ค. $\frac{9}{14}$

ง. $\frac{9}{7}$

4. ข้อใดมีผลคูณเท่ากับ $3\frac{1}{2} \times 10$

ก. $\frac{10}{2} \times \frac{7}{1}$

ข. $2\frac{1}{3} \times \frac{1}{10}$

ค. $10\frac{1}{2} \times \frac{1}{3}$

ง. $1\frac{2}{3} \times \frac{10}{1}$

5. ข้อใดมากกว่าผลหารของ $\frac{5}{8} \div \frac{3}{4}$

ก. 1

ข. $\frac{5}{6}$

ค. $\frac{4}{6}$

ง. $\frac{3}{6}$

6. ทศนิยมชุดใดเรียงลำดับจากมากไปหาน้อย

ก. 0.9

1.9

19.43

8.03

ข. 11.11

35.83

9.9

5.7

ค. 53.04 36.2 13.7 9.16

ง. 3.18 23.6 73.07 73.16

7. 10.50 เขียนในรูปเศษส่วนได้อย่างไร

ก. $\frac{10}{50}$

ข. $\frac{50}{10}$

ค. $\frac{21}{2}$

ง. $\frac{1}{2}$

8. $786.41 - 554.99 = \square$ ผลลบเท่ากับข้อใด

ก. 234.42

ข. 233.42

ค. 232.42

ง. 231.42

9. $17.5 \times 5.8 = \square$ ผลคูณเท่ากับข้อใด

ก. 91.50

ข. 101.50

ค. 110.5

ง. 111.50

10. $(23.1 + 0.4) \times 1.1 = \square$ ผลลัพธ์ตรงกับข้อใด

ก. 28.85

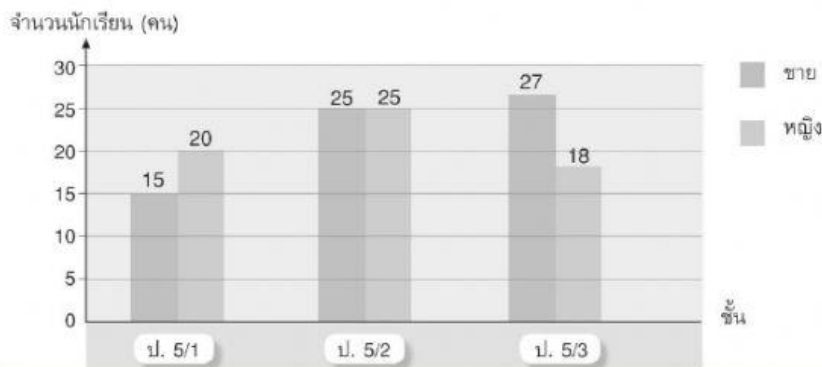
ข. 28.55

ค. 25.85

ง. 25.55

11.

จำนวนนักเรียนชายและหญิง
ชั้นประถมศึกษาปีที่ 5 ในโรงเรียนอักษรศิลป์



ข้อใดไม่ถูกต้อง

ก. นักเรียนชั้น ป. 5/2 มีนักเรียนหญิงเท่ากับนักเรียนชาย

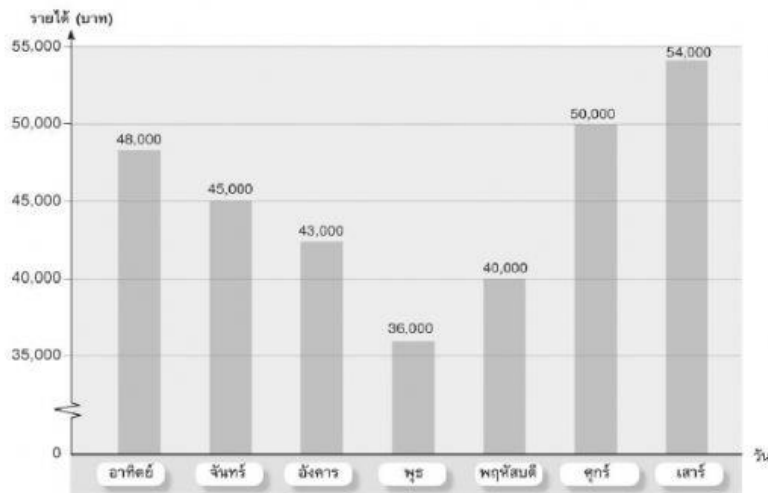
ข. นักเรียนหญิงของชั้น ป. 5/3 น้อยกว่านักเรียนหญิงของชั้น ป. 5/2 จำนวน 7 คน

ค. นักเรียนชายของชั้น ป. 5/3 มากกว่านักเรียนชายของชั้น ป. 5/1 จำนวน 11 คน

ง. จำนวนนักเรียนชั้น ป. 5/2 มีทั้งหมด 50 คน

12.

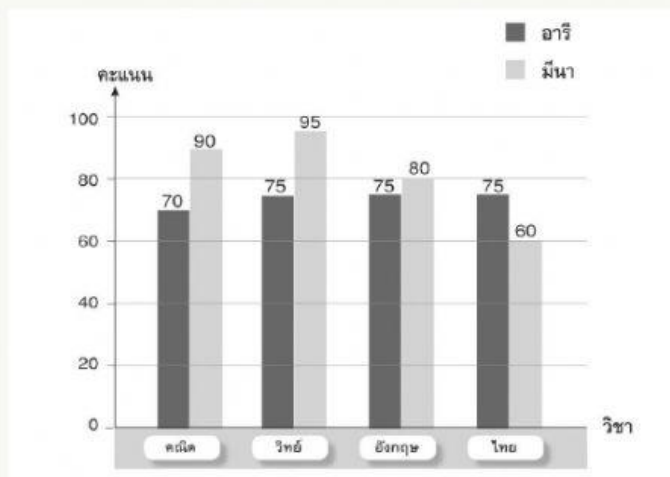
รายได้ของร้านอาหารแห่งหนึ่งใน 1 สัปดาห์



จากแผนภูมิแท่ง ข้อใดไม่ถูกต้อง

- ก. เป็นแผนภูมิแท่งที่มีการย่อระยะของเส้นแสดงจำนวน
- ข. ใน 1 สัปดาห์ ร้านอาหารมีรายได้รวมกันเป็นเงิน 316,000 บาท
- ค. การละข้อมูลในแผนภูมิแท่ง เป็นการละการแสดงผลข้อมูลในช่วงนั้นให้เหมาะกับข้อมูลที่มีมากหรือให้ข้อมูลในช่วงนั้น
- ง. เป็นการแสดงการเปรียบเทียบข้อมูลสองชุด

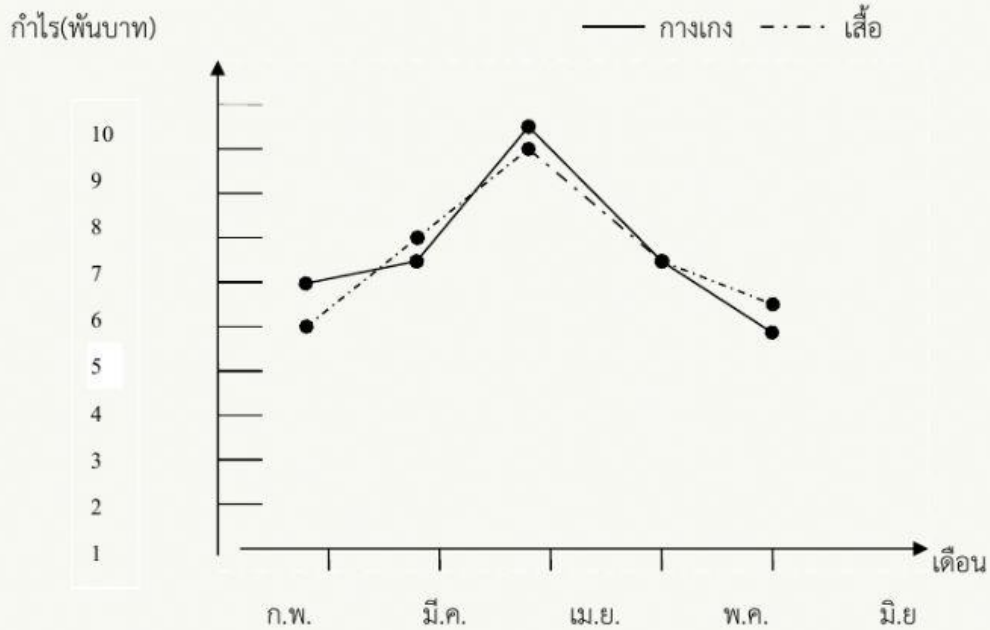
แผนภูมิแท่งเปรียบเทียบแสดงผลคะแนนวิชาต่างๆ ของอารีและมินา



13. จากแผนภูมิแท่งเปรียบเทียบที่กำหนดให้ ข้อใดไม่ถูกต้อง

- ก. อารีได้คะแนนวิชาคณิตศาสตร์น้อยกว่ามีนา 20 คะแนน
- ข. อารีและมีนาได้คะแนนวิชาภาษาไทยใกล้เคียงกันมากที่สุด
- ค. มีนาได้คะแนนวิชาวิทยาศาสตร์มากกว่าอารี 20 คะแนน
- ง. มีนาได้คะแนนวิชาคณิตศาสตร์ วิทยาศาสตร์ และภาษาอังกฤษ มากกว่าอารี

14. กราฟเส้นแสดงผลกำไรที่ได้จากการขายเสื้อและกางเกงนักเรียนของร้านค้าแห่งหนึ่ง ตั้งแต่เดือนกุมภาพันธ์ - มิถุนายน พ.ศ. 2552

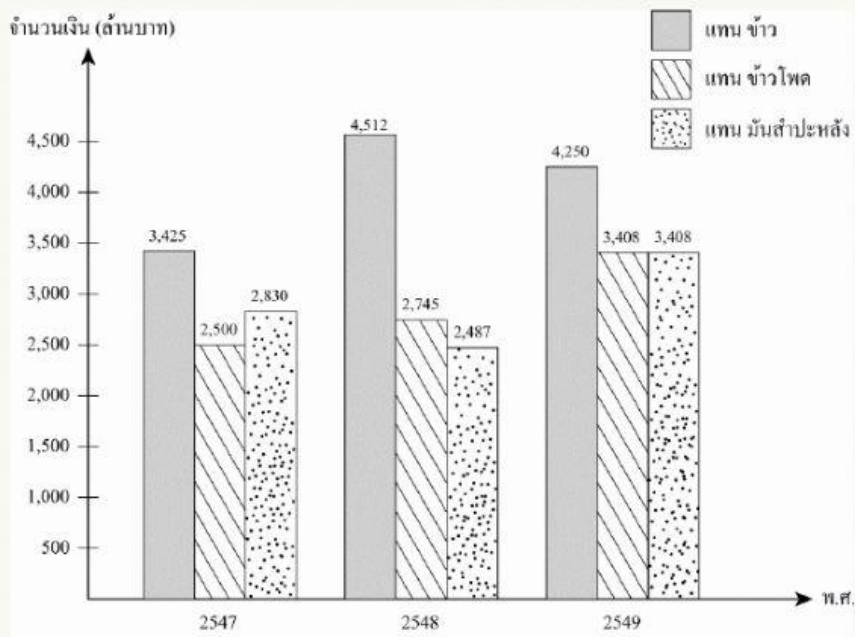


จากกราฟข้อใดกล่าวถูกต้อง

ตัวเลือก

- ก. เดือนกุมภาพันธ์ผลต่างของกำไรของเสื้อและกางเกงมีค่ามากที่สุด
- ข. เดือนพฤษภาคมผลกำไรของเสื้อและกางเกงจะเท่ากัน
- ค. ผลกำไรของเสื้อเดือนมิถุนายนจะเท่ากับผลกำไรของกางเกงเดือนกุมภาพันธ์
- ง. ถูกทุกข้อ

15 มูลค่าผลผลิตพืชเศรษฐกิจส่งออกของประเทศไทยใน พ.ศ. 2547 - 2549



ในปี พ.ศ. 2547 - 2549 มูลค่าการส่งออกของมันสำปะหลังมากกว่าหรือน้อยกว่ามูลค่าการส่งออกของข้าวโหดอยู่เท่าไร

ตัวเลือก

- ก. มากกว่า 72 ล้านบาท
- ข. มากกว่า 132 ล้านบาท
- ค. น้อยกว่า 72 ล้านบาท
- ง. น้อยกว่า 132 ล้านบาท