


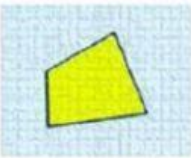










CLASIFICACIÓN DE CUADRILÁTEROS

Relaciona cada cuadrilátero con su nombre

| | | |
|---|---|--|
|  |  |  |
| <input type="text"/> | <input type="text"/> | <input type="text"/> |
|  |  |  |
| <input type="text"/> | <input type="text"/> | <input type="text"/> |
| <input type="text" value="TRAPEZOIDE"/> | <input type="text" value="TRAPECIO"/> | <input type="text" value="CUADRADO"/> |
| <input type="text" value="RECTÁNGULO"/> | <input type="text" value="ROMBO"/> | <input type="text" value="ROMBOIDE"/> |

Escribe el nombre de los siguientes cuadriláteros y después contesta. **No olvides las tildes. Escribe en minúscula**

| | | | |
|---|---|---|--|
|  |  |  |  |
| <input type="text"/> | <input type="text"/> | <input type="text"/> | <input type="text"/> |
|  | <input type="text"/> |  | <input type="text"/> |

¿Cuáles tienen sus lados paralelos dos a dos?
 , , ,

¿Cuáles no tienen ningún lado paralelo?

¿Cuáles tienen todos los ángulos iguales?