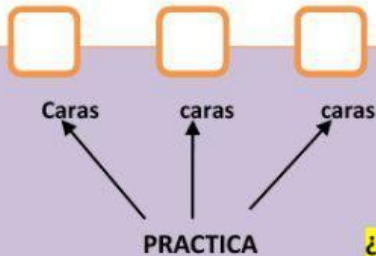


Es fundamental distinguir con claridad entre **Poliedros** y **Cuerpos redondos**.

Repasa primero el tema 12 en el libro y después responde correctamente a las preguntas de esta ficha.

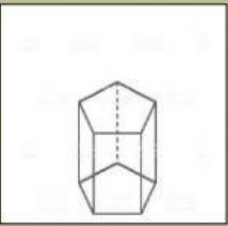
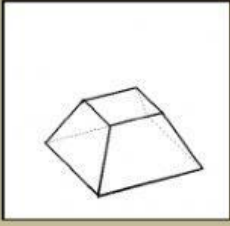
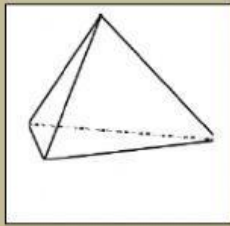
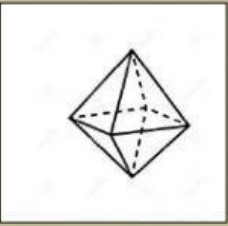
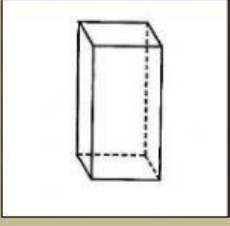
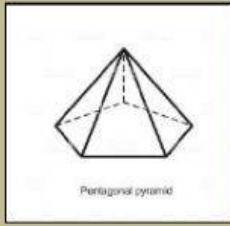


**POLIEDRO** SIGNIFICA "VARIAS CARAS"

¿Cuántas caras tienen el cubo, este prisma y esta pirámide?

Como ya has podido estudiar, los poliedros además de CARAS, tienen ARISTAS y VÉRTICES.

Señala cuántas caras (C), aristas (A) y vértices (V) tienen estos poliedros.

PRISMA DE BASE PENTAGONAL	TRONCO DE PIRÁMIDE CUADRANGULAR	TETRAEDRO
C <input type="text"/>	C <input type="text"/>	C <input type="text"/>
A <input type="text"/>	A <input type="text"/>	A <input type="text"/>
V <input type="text"/>	V <input type="text"/>	V <input type="text"/>
		
OCTAEDRO	PRISMA DE BASE CUADRANGULAR	PIRÁMIDE DE BASE PENTAGONAL
C <input type="text"/>	C <input type="text"/>	C <input type="text"/>
A <input type="text"/>	A <input type="text"/>	A <input type="text"/>
V <input type="text"/>	V <input type="text"/>	V <input type="text"/>
		



La Inmaculada  
**CONCEPCIONISTAS**  
**HORTALEZA**