

LICEO HUELLAS DE TRIUNFO

FRACCIONES

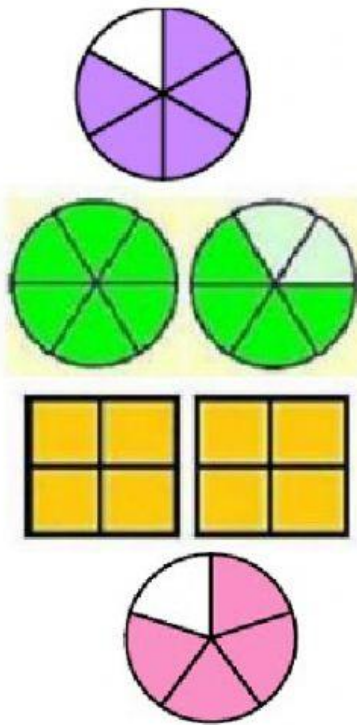
1. Une cada fracción con su gráfica correspondiente y escribe cómo se lee cada una de ellas.

$$\frac{4}{5}$$

$$\frac{8}{4}$$

$$\frac{5}{6}$$

$$\frac{10}{6}$$



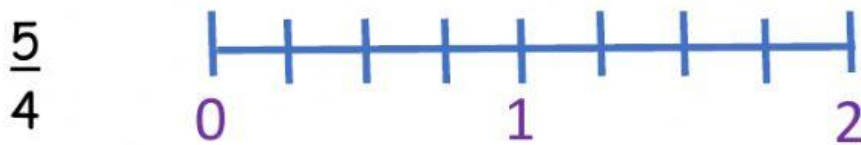


2. Completa las siguientes oraciones:

- Una fracción impropia tiene el numerador _____ que el denominador.
- Una fracción propia tiene el numerador _____ que el denominador.
- Un número mixto está compuesto por _____ y una _____.

- Las fracciones homogéneas tienen el mismo _____.
- Las fracciones heterogéneas tienen _____ denominador.

3. Ubica las siguientes fracciones en la recta numérica:



4. Escribe que fracción representa cada punto de la recta numérica:

