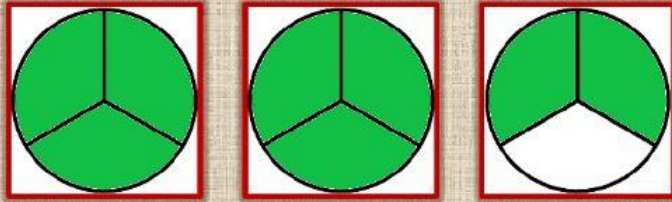


# Fracciones

## Fracciones Impropias y Mixtas (Ficha 02)

### Ejemplo

Representación gráfica



Impropi

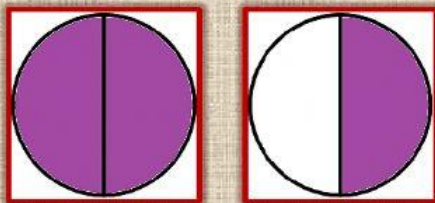
Mixta

$$= \frac{8}{3} = 2 \frac{2}{3}$$

### Ejercicios

En cada una de las representaciones gráficas, escribe su expresión en fracción impropia y en fracción mixta.

Representación gráfica



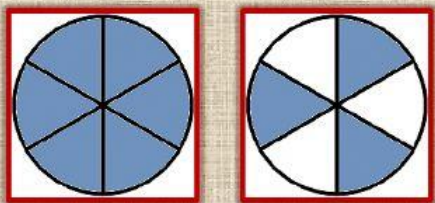
Impropi

Mixta


$$= \underline{\quad} = \underline{\quad}$$



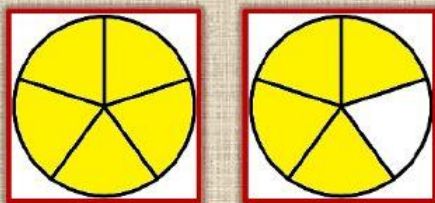
$$= \underline{\quad} = \underline{\quad}$$



$$= \underline{\quad} = \underline{\quad}$$



$$= \underline{\quad} = \underline{\quad}$$



$$= \underline{\quad} = \underline{\quad}$$