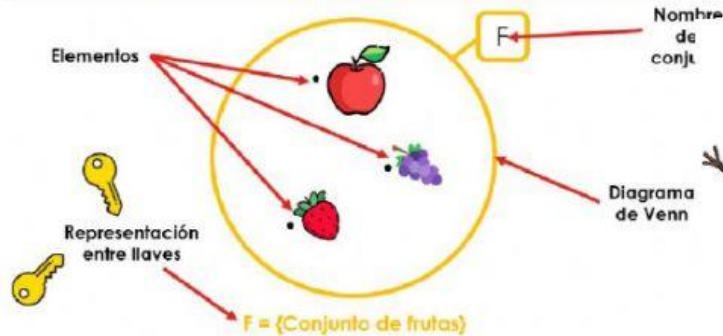


# LOS CONJUNTOS

Recuerda lo visto.



3 + 5/5



## Representación

1. Gráfica: Con el diagrama de Venn-Euler.  
Ejemplo:



2. Simbólica: Con llaves  
Ejemplo:  
 $P = \{ \text{plantas ornamentales} \}$

## Determinación

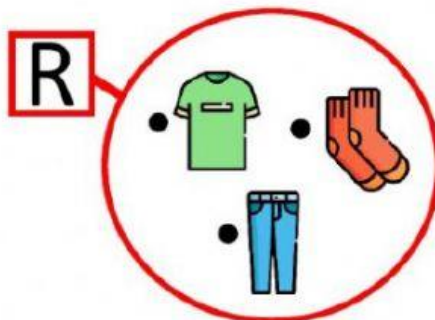
1. Por extensión. Cuando se mencionan todos sus elementos.  
Ejemplo:

$P = \{ \text{plantas ornamentales} \}$

2. Por comprensión. Cuando se menciona la característica común de todos sus elementos  
Ejemplo:

$P = \{ \text{Plantas ornamentales} \}$

Observa los siguientes conjuntos y escribe cómo se representan por extensión o comprensión según te pida.



Por extensión:

$R = \{ \text{polo, pantalón, medias} \}$

Por comprensión:

$R = \{ \text{Prendas de vestir} \}$

E




Por extensión:

Por comprensión:

E = {Electrodomésticos}

E = { refrigeradora, microondas, licuadora }

V



Por extensión:

Por comprensión:

F = {Verduras}

V = { zanahoria, tomate, brócoli }

V = {Verduras}

Z



Por extensión:

Por comprensión:

Z = { sandalias, botas, zapatillas }

S = { Calzados }

C = { sandalias, botas, zapatillas }

Z = { Calzados }

