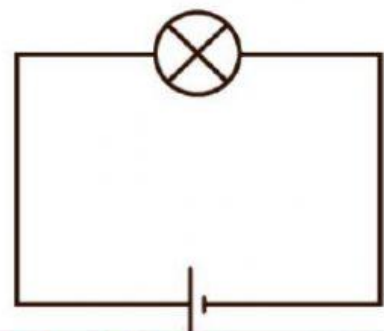
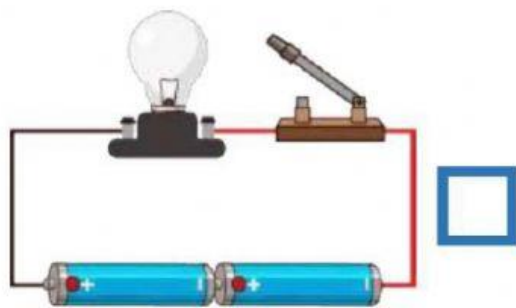
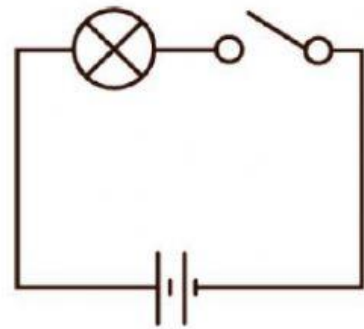
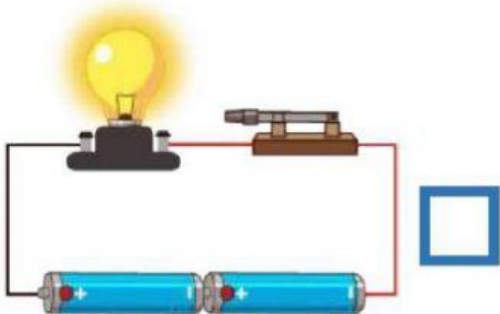
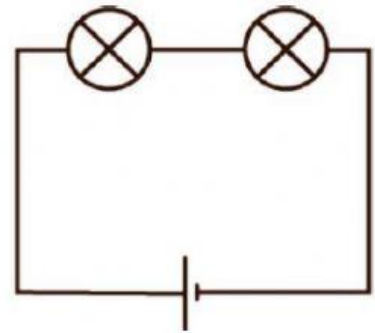
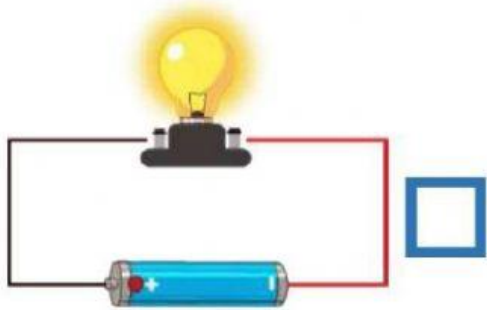
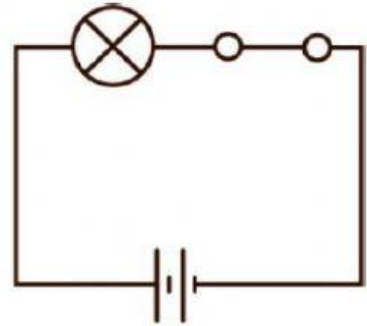
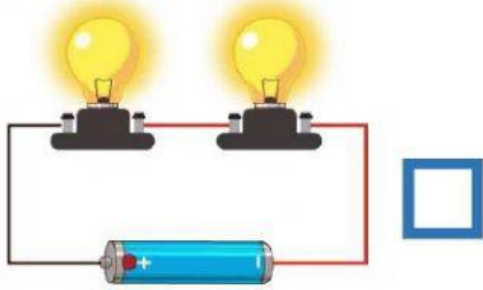


ชื่อ

เลขที่

คำชี้แจง : ให้นักเรียนโยงเส้นจับคู่กับสัญลักษณ์แสดงส่วนประกอบของวงจรไฟฟ้าให้ถูกต้อง

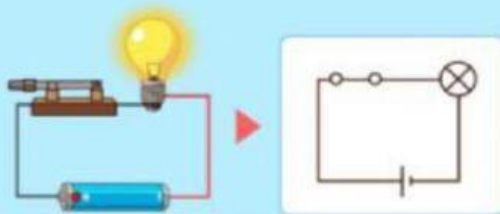


ตอนที่ 3 คำชี้แจง : ให้นักเรียนเลือกตอบว่าวงจรต่อไปนี้เป็น “วงจรเปิด” หรือ “วงจรปิด” ให้ถูกต้อง

### การต่อวงจรไฟฟ้าอย่างง่าย

เมื่อต่อวงจรไฟฟ้าจะมีกระแสไฟฟ้าไหลผ่านในวงจร โดยมีสวิตซ์ทำหน้าที่ควบคุมกระแสไฟฟ้า

หากต่อวงจรไฟฟ้าครบวงจรและเครื่องใช้ไฟฟ้าสามารถทำงานได้จะเรียกว่า



หากต่อวงจรไฟฟ้าไม่ครบวงจร โดยปลดสายไฟฟ้าเส้นใดเส้นหนึ่งออกหรือยกสวิตซ์ขึ้น และเครื่องใช้ไฟฟ้าไม่สามารถทำงานได้จะเรียกว่า

