

## Evaluación de Historia, Geografía y Cs Sociales 4° básico.

Nombre: \_\_\_\_\_

**Objetivo:** analizar y comparar las principales características de las civilizaciones americanas (mayas y aztecas.) OA 04

Miss María José Araya Ibacache.

PUNTAJE IDEAL 40 puntos Puntaje obtenido: \_\_\_\_\_

### Instrucciones:

- Lee atentamente cada pregunta y sus alternativas. Luego marca la alternativa correcta. **2 puntos cada respuesta.**

Observa el siguiente mapa y luego responde la pregunta 1.

1. El área cultural y geográfica donde se ubicaron los Mayas y los Aztecas se llama:

- A. Mesoamérica.
- B. Sudamérica.
- C. Norteamérica.
- D. Centroamérica.

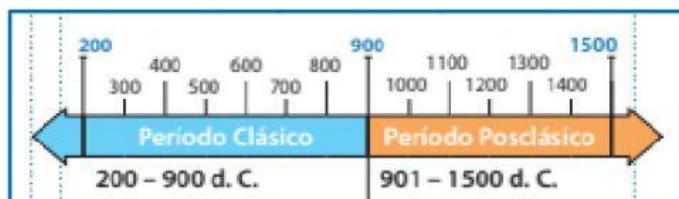


2. ¿Por qué son tan importante las ciudades y los templos Maya en el ámbito religioso?

- A. Eran los principales centros ceremoniales.
- B. Se celebraban las ceremonias religiosas.
- C. Se realizaban sacrificios humanos para agradecer a los dioses.
- D. Todas las anteriores.

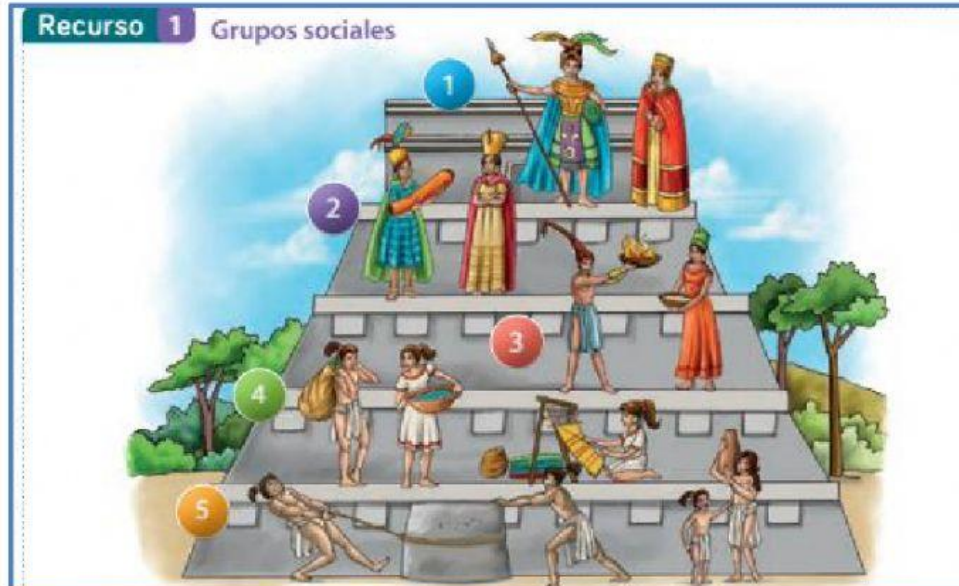
3.- Observa la línea de tiempo. Calcula la duración de los periodos Clásico y Posclásico. ¿Cuál duró más?

- A.- Período Clásico.
- B.- Período Posclásico.
- C.- Período Clásico y Posclásico.
- D.- 200 a. C.



Observa la imagen de la pirámide social maya. Luego responde las preguntas 4 y 5.

4.- ¿Qué grupo social se encuentra en el N° 1?



- A.- Los siervos.
- B.- Ajaw y su familia.
- C.- Los sacerdotes.
- D.- Corte ajaw.

5.- A qué grupo social corresponde la siguiente definición:

*"Habitan a las afueras de las ciudades. Pagaban tributos. Trabajaban en el campo, la construcción de templos y palacios, en el comercio y la artesanía."*

- A.- Los sacerdotes.
- B.- Pueblos y campesinos.
- C.- Esclavos.
- D.- Ajaw y su familia.

6.- El Ajaw, también era llamado:


- A.- Tlaloc.
- B.- Huitzilopochtli.
- C.- Halch Uinic.
- D.- Quetzal.

7.- ¿Cuál fue la principal actividad económica de los mayas?

- A.- Pesca.
- B.- Agricultura.
- C.- Ganadería.
- D.- Minería.

**8.- Observa la siguiente imagen. Luego marca el nombre del sistema agrícola que utilizaron los mayas.**

- A.- Tala.
- B.- Roza.
- C.-Tala y Roza.
- D.- Milpa.



**9.- Según la leyenda de Tenochtitlan ¿En qué lugar debían fundar su imperio los Aztecas?**

- A.- Dónde se ubicará un águila devorando a una serpiente posada sobre un nopal.
- B.- Dónde se ubicará un cóndor devorando a una serpiente posada sobre un nopal.
- C.- Dónde se ubicará un puma devorando a una serpiente posada sobre un nopal.
- D.-Dónde se ubicará una serpiente devorando a un águila posada sobre un nopal.

**10.- ¿Qué relación existió entre la religión azteca y las guerras?**

- A.-Las guerras se hacían para demostrar el enojo a los dioses.
- B.-Las guerras no tenían ninguna relación con la religión.
- C.-Las guerras eran ataque entre creyentes y no creyentes.
- D.-Las guerras se hacían para conseguir personas para sacrificar.

**11.- La ciudad de los Aztecas estaba ubicada en medio de un lago, el cual disponía de canales para la circulación de embarcaciones y acueductos que abastecían al pueblo de agua dulce. Este lago corresponde a:**

- A.-Tikal.
- B.-Texcoco.
- C.-Tenochtitlan.
- D.-Palenque.



**12.- Las chinampas utilizadas por los aztecas eran:**

- A.-Edificaciones creadas para rendir culto a los dioses.
- B.-Canales que servían para el abastecimiento de agua.
- C.- Islas flotantes que permitían realizar diversos cultivos.
- D.-formas de desarrollar el comercio con otros pueblos.



**13.-¿Cómo se realizaba la elección del Rey azteca?**

- A.-Por votación democrática.
- B.-Se acordaba según características que debían cumplir.
- C.-Sólo lo escoge el sacerdote.
- D.-Era un cargo heredado de padre a hijo



**14.-Actualmente ¿En qué ciudad se localiza el territorio azteca?**

- A.-Ciudad de Honduras
- B.-Ciudad de México
- C.-Ciudad de Guatemala
- D.-Ciudad del Cusco.

**15.- ¿Qué características debía poseer el Tlatoani?**

- A.- Principal gobernante, líder religioso y militar del imperio.
- B.- Consejero y asesor principal.
- C.- Trabajaba como juez y recolectaba los impuestos.
- D.- Generales a cargo de los ejércitos.

**16.- ¿Qué avance tecnológico que desarrollaron los aztecas que transportaba agua dulce y potable a Tenochtitlán a través de las calzadas?**

- A.- Canoas.
- B.- Acueductos.
- C.- Diques.
- D.-Calzadas.

**17.- ¿Qué idioma hablaban los aztecas?**

- A.- Atecate.
- B.- Nahuatl
- C.- Maya.
- D.-Itzamá.

**18.- Para los aztecas la religión era fundamental en sus vidas y asociados a la naturaleza. Era del tipo:**

- A.- Monoteísta un solo Dios.
- B.- Politeísta varios dioses.
- C.-Eran ateos no creían.
- D.- Todas las anteriores

**19.- La característica más importante de la educación de los niños y niñas aztecas era que:**

- A.- Los aztecas eran el único pueblo del mundo que tenían un sistema de educación universal y obligatorio.
- B.- Niños eran preparados para la guerra.
- C.- Las niñas aprendían el oficio de sus padres.
- D.- En las casas les enseñaban tanto a niños como a niñas, una vez cumpliendo 18 años podían formar sus familias.

**20.- ¿Para qué tipo de actividad económica es relevante la colaboración del agua del lago Texcoco?**

- A.- Política.
- B.- Transporte.
- C.- Agricultura.
- D.- Distribución de la población.