

¿Cuánto aprendí?

El cumpleaños de Daniela

Daniela celebró su cumpleaños con sus amigos y amigas del colegio. Ella nació el 18 de septiembre, pero la fiesta fue otro día porque cayó lunes. Daniela y sus invitados la pasaron muy bien.



1 Fíjate en el calendario de septiembre y responde.

- ¿Qué día y fecha es el cumpleaños de Alonso si es dos días después del de Daniela?

Día: _____ Fecha: _____

- El cumpleaños de Harumi es el último sábado de septiembre. ¿Qué fecha es?

Fecha: _____

- El cumpleaños de Kevin fue el mes pasado. ¿En qué mes fue?

Mes: _____

- Como el cumpleaños de Daniela cayó lunes, su mamá se lo celebró el día anterior. ¿Qué día y en qué fecha celebró el cumpleaños?

Día: _____ Fecha: _____

SEPTIEMBRE						
D	L	M	M	J	V	S
					1	2
3	4	5	6	7	8	9
10	11	12	13	14	15	16
17	18	19	20	21	22	23
24	25	26	27	28	29	30

2 La mamá de Daniela preparó quequitos para los invitados. Pinta las operaciones que representan la cantidad de quequitos que preparó.



$$7 \times 3$$

$$7 + 7 + 7 + 7$$


$$4 \times 7$$

$$3 + 3 + 3 + 3 + 3 + 3 + 3$$


$$7 \times 4$$

- 3 La fiesta de Daniela empezó a las cinco y media y terminó a las nueve y cuarto. Escoge el reloj adecuado en cada caso. Marca.


Inicio



Término



- 4 Calcula el perímetro del cartel del cumpleaños de Daniela.



Perímetro: _____ cm

- 5 Fíjate cómo se ha representado con las regletas la cantidad de personas que asistieron al cumpleaños de Daniela.



- Escoge dos regletas que representen la equivalencia de la cantidad anterior. Colócalas en la barra en blanco.

