


COMPOSICIÓN Y DESCOMPOSICIÓN

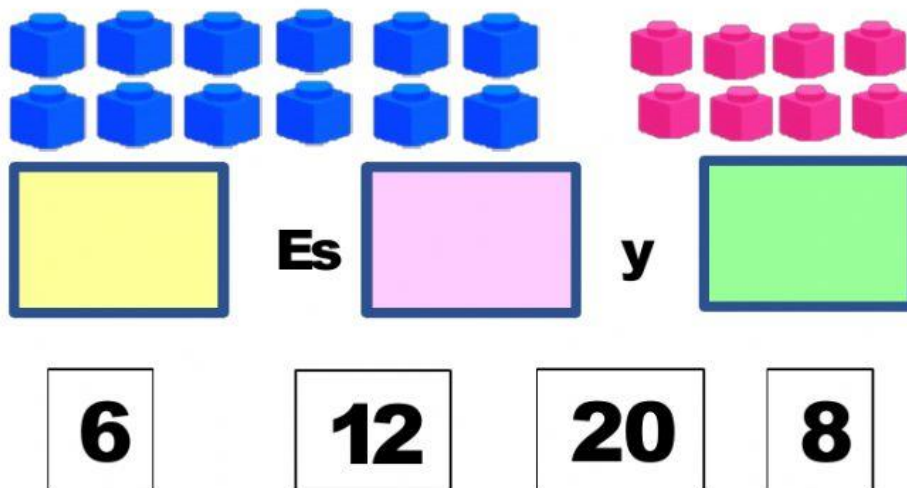
Competencia: Resuelve problemas de cantidad.

1. **Realiza** las siguientes descomposiciones.
Observa el siguiente ejemplo:

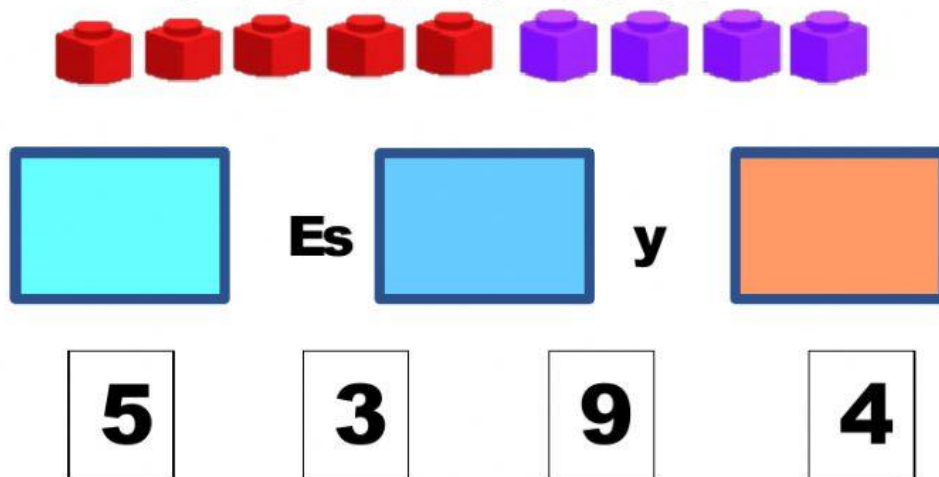
¿ CÓMO FORMARÉ EL 5 ?



¿ CÓMO FORMARÉ EL 20 ?



¿ CÓMO FORMARÉ EL 9 ?




2. Arrastra los números que corresponden a cada composición.

Observa el siguiente ejemplo.



2 y 3 es 5



y es

16

24

14

8



y es

5

8

2

3



COMPOSER

3. **S**elecciona los números para poder componer en cada situación.

$$\begin{array}{c} \textcircled{16} + \textcircled{25} \\ \downarrow \quad \downarrow \\ \boxed{?} \end{array}$$

41 31 21

$$\begin{array}{c} \textcircled{69} - \textcircled{32} \\ \downarrow \quad \downarrow \\ \boxed{?} \end{array}$$

27 37 47

$$\begin{array}{c} \textcircled{49} + \textcircled{11} \\ \downarrow \quad \downarrow \\ \boxed{?} \end{array}$$

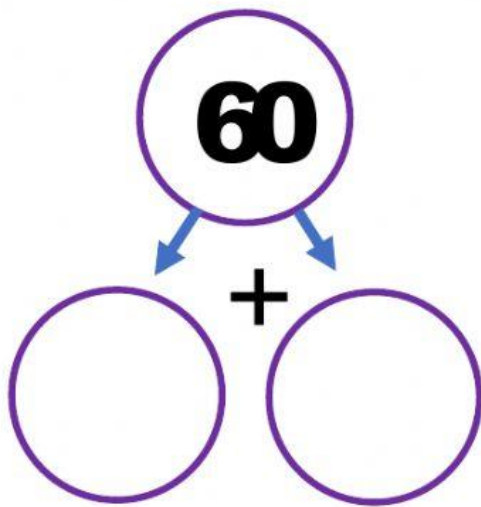
61 50 60

$$\begin{array}{c} \textcircled{63} - \textcircled{?} \\ \downarrow \quad \downarrow \\ \boxed{21} \end{array}$$

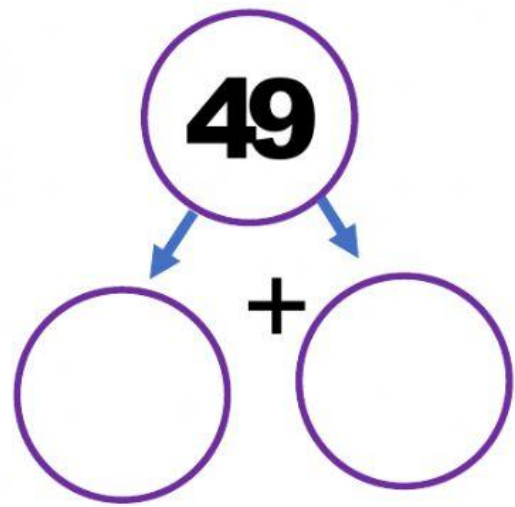
45 42 44

DESCOMPONER

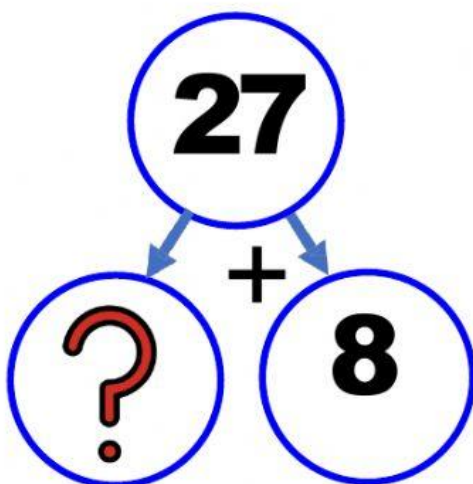
4. **S**elecciona los números correctos para poder descomponer en cada situación.



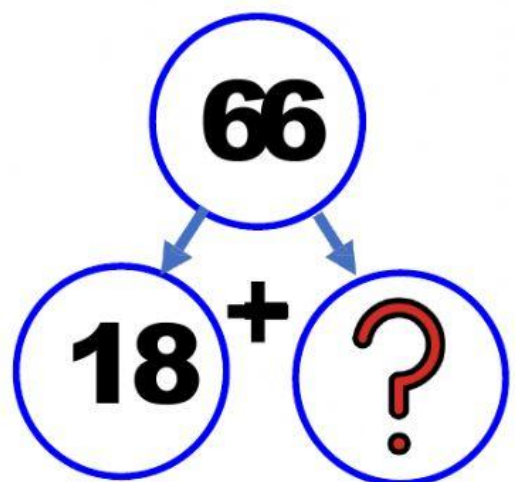
51 8 52



19 29 20



21 20 19



64 38 48