































DOBLE Y TRIPLE DE UN NÚMERO

Nombre y apellidos:




































Fecha:



Calcula el **doble** de las siguientes cantidades y escríbelo en el recuadro:

Calcula el **triple** de las siguientes cantidades y escríbelo en el recuadro:

Problemas muy rápidos

Aarón tiene 5 caramelos y Mar el doble. ¿Cuántos caramelos tiene Mar?

Mar tiene caramelos.

Giulia tiene 8 cuerdas y Luís el triple. ¿Cuántas cuerdas tiene Luís?

Luís tiene cuerdas.

Iván respondió 4 preguntas e Irune el doble.

Irune resolvió preguntas.

Julia consiguió 8 puntos y Javier el triple.

Javier consiguió puntos.

Alicia tiene 3 cuentos e Irene tiene el triple que Alicia.

Irene tiene cuentos.

Daniel tiene el doble de canicas que Vera. Daniel tiene 18 canicas.

Vera tiene canicas.

Áxel tiene el triple de cromos que Delia. Áxel tiene 18 cromos.

Delia tiene cromos.

RESPONDE: ¿Qué es el doble y el triple para ti para ti?

DOBLE

TRIPLE