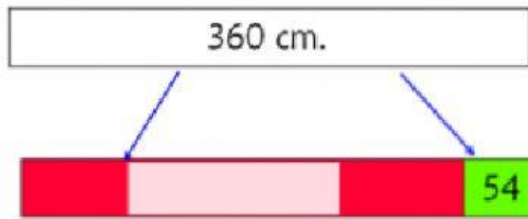




## NÚMEROS (Criterio 3)

NOMBRE:



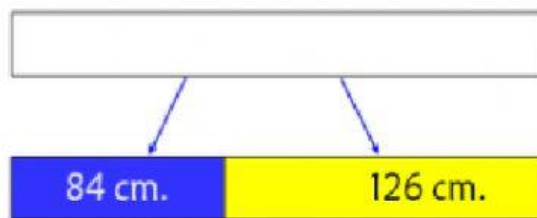
¿Qué porcentaje de la barra es roja(\*)? El % de es de color rojo.

$$\begin{aligned} - &= \\ / &= \rightarrow \% \\ - &= \% \end{aligned}$$



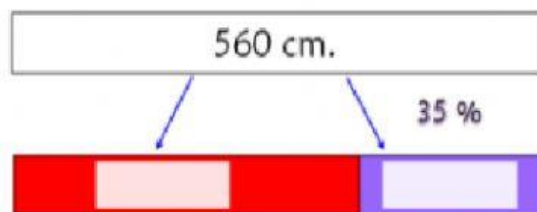
¿Cuánto mide la parte amarilla(\*) de la barra? La parte amarilla mide cm.

$$\begin{aligned} / \cdot &= \\ - &= \end{aligned}$$



¿Qué porcentaje de la barra es amarilla(\*)? El % de es de color amarillo.

$$\begin{aligned} + &= \\ / &= \rightarrow \% \\ - &= \% \end{aligned}$$

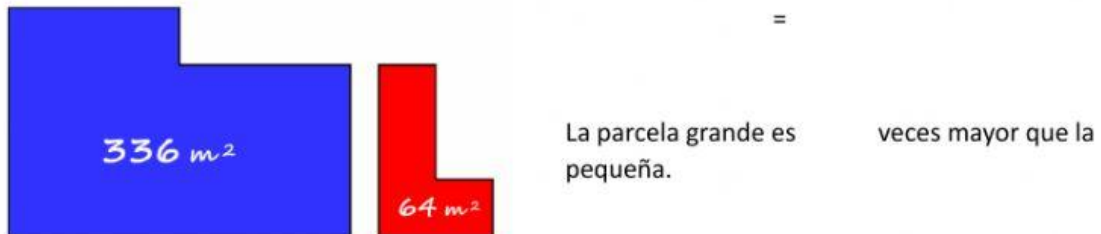


¿Cuánto mide la parte roja(\*) de la barra? La parte roja mide .

$$\begin{aligned} / \cdot &= \\ - &= \\ - &= \% \end{aligned}$$



Se venden dos parcelas al lado de mi casa, una de 336 m<sup>2</sup> y otra de 64 m<sup>2</sup>. ¿Cuántas veces mayor es la parcela grande que la pequeña?



Se venden dos parcelas al lado de mi casa, una cuesta 12 600€ y otra 5.25 veces menos.

