



โรงเรียนอนุบาลนครราชสีมา

แบบทดสอบวัดผลปลายภาคเรียนที่ 1 ปีการศึกษา 2564

กลุ่มสาระการเรียนรู้คณิตศาสตร์ วิชาคณิตศาสตร์ (พื้นฐาน) รหัส ค 11101


ชั้นประถมศึกษาปีที่ 1 จำนวน 15 ข้อ คะแนนเต็ม 15 คะแนน เวลา 1 ชั่วโมง

ทดสอบระหว่างวันที่ 27 กันยายน 2564 – 1 ตุลาคม 2564

ชื่อ.....ชั้น ป.1/7 (SG) เลขที่.....

คำสั่ง ให้นักเรียนเลือกคำตอบที่ถูกต้อง

1. ข้อใดเขียนแสดงจำนวนไปไม่ได้ถูกต้อง



ก. 6

ข. 8

ค. 9

2. ข้อใดเขียนตัวเลขฮินดูอารบิก ตัวเลขไทย และตัวหนังสือแสดงจำนวนต่อไปนี้ได้ถูกต้อง



ก. ตัวเลขฮินดูอารบิก 8

ตัวเลขไทย ๖

ตัวหนังสือ แปด

ข. ตัวเลขฮินดูอารบิก 8

ตัวเลขไทย ๘

ตัวหนังสือ แปด

ค. ตัวเลขฮินดูอารบิก 9

ตัวเลขไทย ๘

ตัวหนังสือ แปด

3. เติมตัวเลขแสดงจำนวนที่หายไป

$$5 + \square = 4 + 5 = 9$$

- ก. 4
- ข. 5
- ค. 6

4. ข้อใดเรียงจำนวนต่อไปนี้จากมากไปน้อยได้ถูกต้อง

12 17 10 15 13

- ก. 10 12 13 15 17
- ข. 17 15 12 13 10
- ค. 17 15 13 12 10

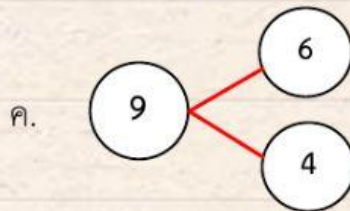
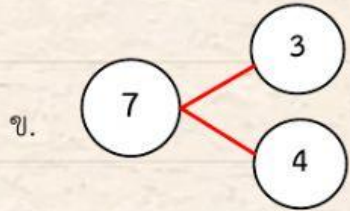
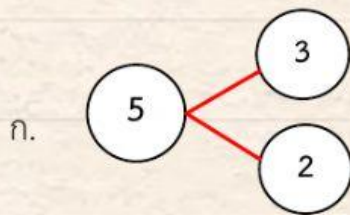
5. ข้อใดเติมเครื่องหมายได้ถูกต้อง

- ก. $10 < 12$
- ข. $13 > 15$
- ค. $16 < 14$

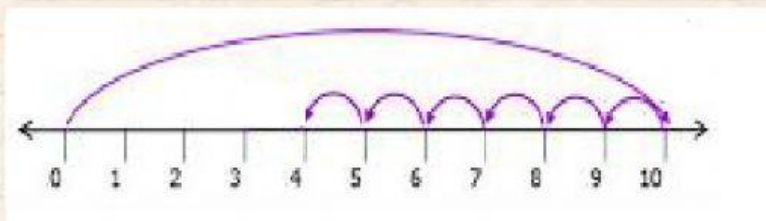
6. ลูกอมรสนม 4 เม็ด มีลูกอมรสส้ม 6 เม็ด มีลูกอมทั้งหมดกี่เม็ด

- ก. 10 เม็ด
- ข. 9 เม็ด
- ค. 8 เม็ด

7. ตัวเลขแสดงความสัมพันธ์ของจำนวนแบบส่วนย่อย - ส่วนรวม ข้อใด ไม่ ถูกต้อง



8. การหาผลลบโดยใช้เส้นจำนวน



จากรูปแทนการหาผลลบได้ในข้อใด

ก. $10 - 4$

ข. $10 - 6$

ค. $10 - 10$

9. พ่อเลี้ยงไก่ 18 ตัว และเลี้ยงเป็ด 14 ตัว ข้อใดเปรียบเทียบการเลี้ยงเป็ดกับไก่ได้ถูกต้อง

ก. พ่อเลี้ยงเป็ดน้อยกว่าไก่

ข. พ่อเลี้ยงเป็ดมากกว่าไก่

ค. พ่อเลี้ยงไก่น้อยกว่าเป็ด

10.



ประโยคสัญลักษณ์ $4 + 3 = \square$

มีดินสอ 4 แท่ง ครูให้อีก 3 แท่ง

ข้อใดเป็นข้อความที่หายไปเพื่อสร้างโจทย์ปัญหาการบวก

- ก. เหลือดินสอทั้งหมดกี่แท่ง
- ข. ได้ดินสอเพิ่มอีกกี่แท่ง
- ค. มีดินสอทั้งหมดกี่แท่ง

11. จงหาผลบวกของ $6 + 5 + 7 = \square$

- ก. 17
- ข. 18
- ค. 19

12. จงหาผลลบของ $19 - 7 - 3 = \square$

- ก. 9
- ข. 10
- ค. 11

13. ตามีมะม่วงดิบ 13 ผล มีมะม่วงสุกมากกว่ามะม่วงดิบ 5 ผล ตามีมะม่วงสุกทั้งหมดกี่ผล

- ก. 8 ผล
- ข. 15 ผล
- ค. 18 ผล

14. นิตมีสมุด 12 เล่ม เพื่อนให้มาอีก 7 เล่ม นิตมีสมุดทั้งหมดกี่เล่ม

ก. 19 เล่ม

ข. 18 เล่ม

ค. 5 เล่ม

15. ข้อใดเป็นการสร้างโจทย์ปัญหาการลบจากประโยคสัญลักษณ์

$$16 - 9 = \square$$

ก. ต้นกล้ามีดินสอ 16 เล่ม ซื้อมาเพิ่มอีก 9 เล่ม รวมต้นกล้ามีดินสอกี่เล่ม

ข. ต้นกล้ามีดินสอ 16 เล่ม มีปากกา 9 แท่ง ต้นกล้ามีดินสอมากกว่าปากกาก็เล่ม

ค. เดิมต้นกล้ามีดินสอทั้งหมดกี่เล่ม ถ้าให้เพื่อน 16 เล่ม แล้วยังเหลืออีก 9 เล่ม

