


1. **Instrucciones:** Seleccione la respuesta correcta de cada objeto, de acuerdo al estado en el que se encuentra.


	sólido
	líquido
	gaseoso


	sólido
	líquido
	gaseoso

	sólido
	líquido
	gaseoso

	sólido
	líquido
	gaseoso


	sólido
	líquido
	gaseoso

	sólido
	líquido
	gaseoso


	sólido
	líquido
	gaseoso

	sólido
	líquido
	gaseoso

2. ¿Qué símbolo me indica que está nublado?



3. Arrastra cada símbolo a su significado.



Soleado



Lluvioso



Tormenta



Nuboso



Nevada

4. Encuentre las siguientes palabras en la sopa de letras.

1. MANTO

2. CORTEZA

3. LITÓSFERA

4. NÚCLEO

X	M	A	N	T	O	P	H	T
A	F	H	G	W	S	Z	J	M
L	I	T	Ó	S	F	E	R	A
D	R	J	I	R	W	Q	L	N
N	Ú	C	L	E	O	R	S	B
S	T	K	P	J	Q	J	D	V
V	Y	C	O	R	T	E	Z	A
Z	U	L	Q	K	T	L	C	R

5. Seleccione el nombre correcto de cada capa de la atmósfera.

