

Evaluación Mensual de Matemáticas

Septiembre 2021 4ºto grado.

Nombre del alumno: _____

1.- Resuelve las siguientes operaciones, y selecciona la respuesta correcta.

$$7 \overline{)469}$$

$$8 \overline{)120}$$

$$7 \overline{)448}$$

$$\begin{array}{r} 720 \\ -409 \\ \hline \end{array}$$

$$\begin{array}{r} 552 \\ -173 \\ \hline \end{array}$$

$$\begin{array}{r} 8414 \\ +4143 \\ \hline \end{array}$$

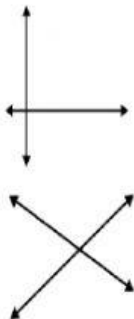

$$\begin{array}{r} 1392 \\ +8148 \\ \hline \end{array}$$

$$\begin{array}{r} 904 \\ \times 4 \\ \hline \end{array}$$

$$\begin{array}{r} 809 \\ \times 6 \\ \hline \end{array}$$

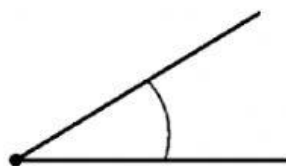
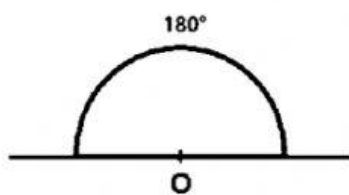
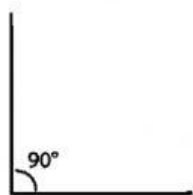
$$\begin{array}{r} 236 \\ \times 4 \\ \hline \end{array}$$

2.- Une las líneas con su nombre.



Oblicua
Paralela
Perpendicular

3.- Selecciona los nombres de los angulos que se muestran a continuación.



Agudo	Agudo	Agudo
Recto	Recto	Recto
Colineal	Colineal	Colineal

4.- Observa las siguientes cantidades y selecciona el valor relativo (de acuerdo con la posición donde se encuentra ubicado) del número que está encerrado.

$$9 \text{ (8) } 74 =$$

$$6 \text{ (7) } 47 =$$

5.- Coloca el antecesor o sucesor en cada número según corresponda.

Antecesor

199

Cantidad

200

1000

Sucesor

1001