

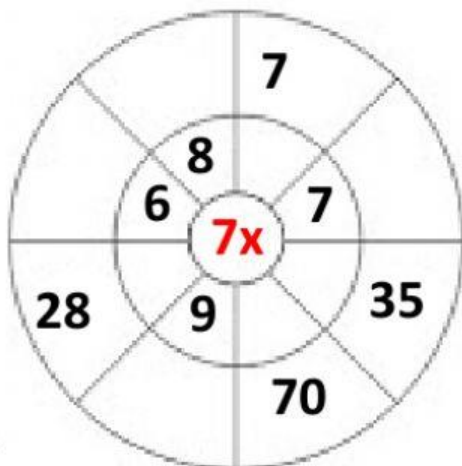
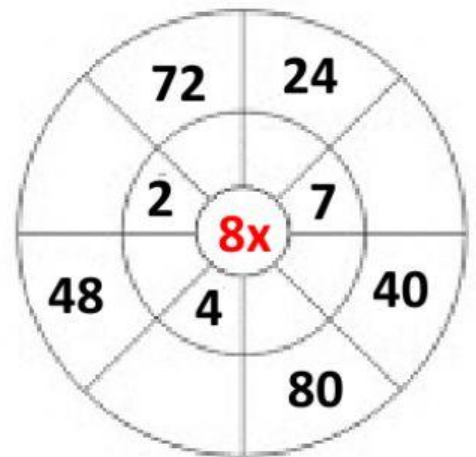
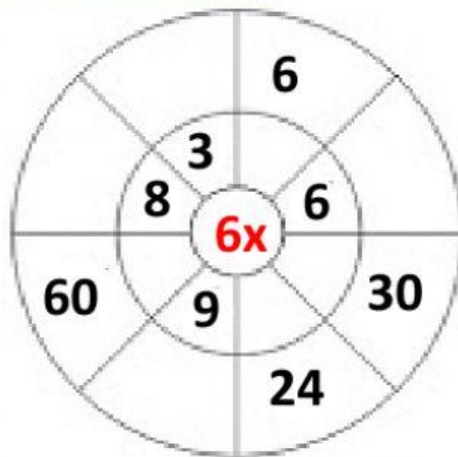


# PHIẾU HỌC TẬP CUỐI TUẦN 4

Bài 1. Tìm bộ phận trả lời **Ai** và bộ phận trả lời **là gì?**

Câu	Ai	là gì?
Cha mẹ là người thầy cô đầu tiên của em.		
Chúng em là học sinh của trường Quốc tế Canada.		
Quê hương là con đò nhỏ.		
Hà Nội là thủ đô của nước Việt Nam.		

Bài 2. Điền số thích hợp?



**Bài 3. Tính:**

$8 \times 6 + 127$

= .....

= .....

$28 : 4 + 79$

= .....

= .....

$6 \times 9 - 16$

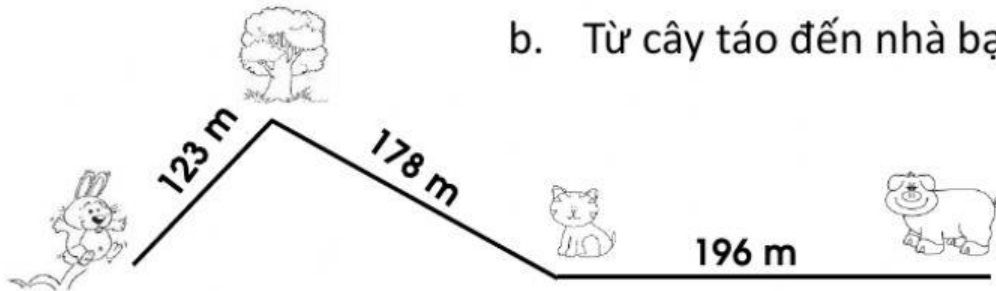
= .....

= .....

**Bài 4.** Em hãy tính quãng đường

a. Từ bạn thỏ đến nhà bạn mèo?

b. Từ cây táo đến nhà bạn heo?



**Bài giải**

a) .....

.....

b) .....

.....

Đáp số: a)..... b).....

**Bài 5.** Khối 3 có 2 lớp, lớp 3A có 27 học sinh, lớp 3B có 26 học sinh.

a) Hỏi khối 3 có tất cả bao nhiêu học sinh?

b) Khối lớp 2 có 77 học sinh. Hỏi khối 2 nhiều hơn khối 3 bao nhiêu

học sinh?

**Bài giải**

a) .....

.....

b) .....

.....

Đáp số: a)..... b).....