






Instruction: Count and write the number of penguins.

<p>1)</p>  <input data-bbox="654 589 772 719" type="text"/>	<p>2)</p>  <input data-bbox="1230 589 1348 719" type="text"/>
<p>3)</p>  <input data-bbox="654 1059 772 1189" type="text"/>	<p>4)</p>  <input data-bbox="1230 1059 1348 1189" type="text"/>
<p>5)</p>  <input data-bbox="647 1503 766 1632" type="text"/>	