

ESCUELA DE EDUCACIÓN BÁSICA PARTICULAR "MEDARDO ANGEL SILVA"

NOMBRE: \_\_\_\_\_



EXAMEN DE MATEMÁTICAS DEL 1ER QUIMESTRE

RESOLVER LAS SIGUIENTES OPERACIONES Y SELECCIONA LA RESPUESTA CORRECTA.

6.789

X 86

583.855

582.953

583.854

6.321

+ 6.211

5.632

18.163

18.164

18.165

88690

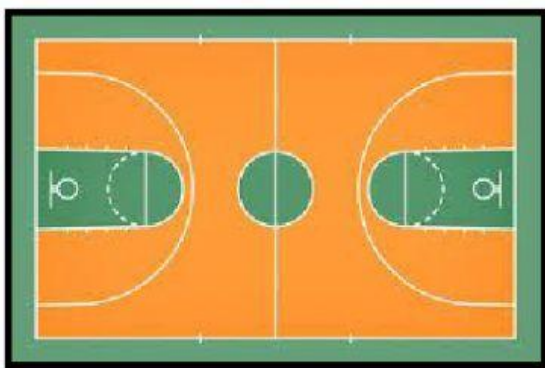
- 72991

15.699

15.698

15.609

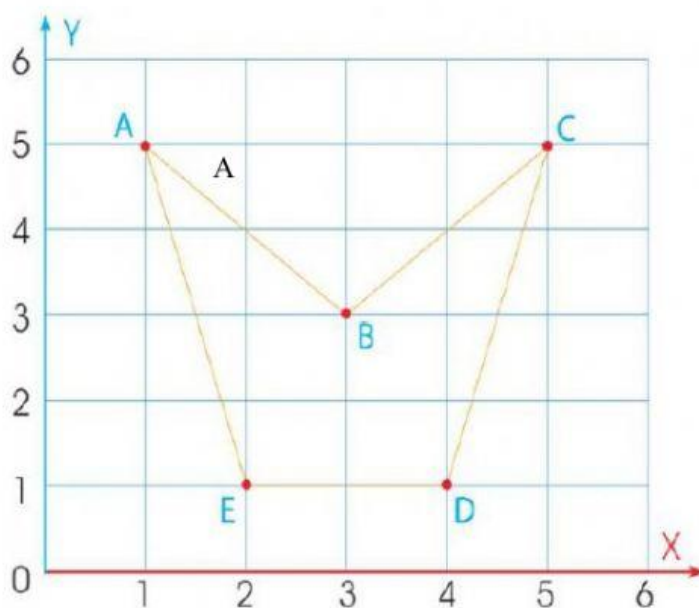
SELECCIONA LAS MAGNITUDES EN LOS SIGUIENTES EJEMPLOS.



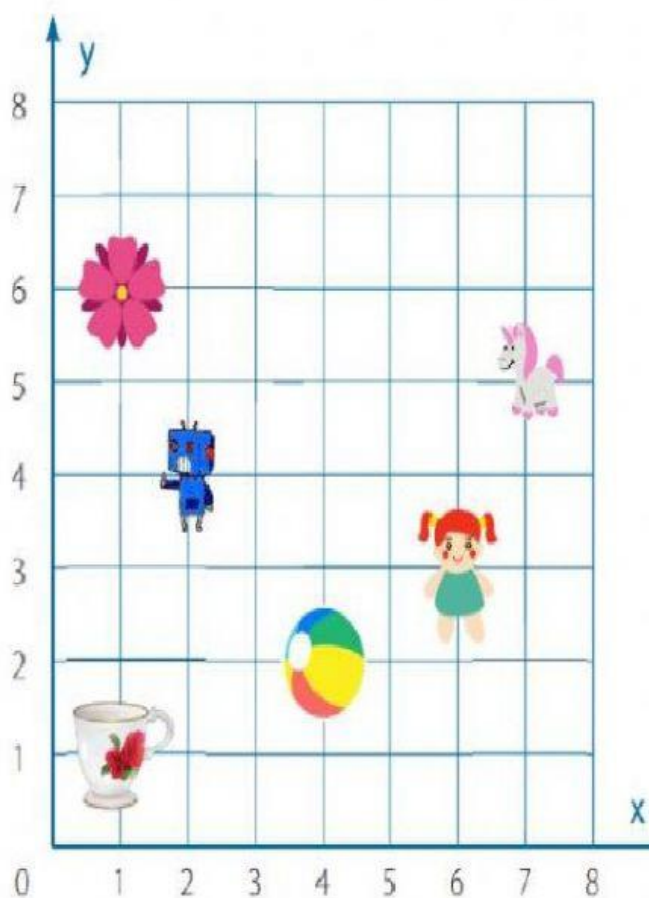
OBSERVA EL PLANO CARTESIANO Y COMPLETA LOS PARES ORDENADOS

PAR ORDENADO

A	(	,	)
B	(	,	)
C	(	,	)
D	(	,	)
E	(	,	)



SELECCIONA LAS AFIRMACIONES CORRECTAS



- La  está ubicada en el punto (1; 6)

- El  está ubicada en el punto (5; 7)

- La  está ubicada en el punto (6; 3)

- El  está ubicada en el punto (2; 4)

- La  está ubicada en el punto (2; 2)

- La  está ubicada en el punto (4; 2)

OBSERVA LA FIGURA ESCRIBA EL NOMBRE DEL SOLIDO AL QUE PERTENECE.

