


PHIẾU ÔN TOÁN TUẦN 4

Bài 1: Đếm và điền số:



Bài 2: Chọn số thích hợp:

2

3

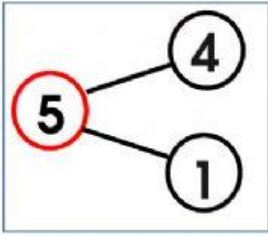
4

1

5

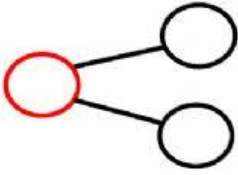
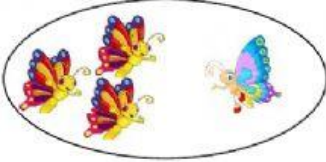


Bài 3: Chọn hình vẽ tương ứng với sơ đồ tách gộp:



Bài 4: Điền số vào sơ đồ tách gộp bên dưới:

a.



b.

