


Medidas de Masa




1. Responde, ¿qué cantidad hay? Valor 4 puntos.




Hay: _____



Hay: _____



Hay: _____



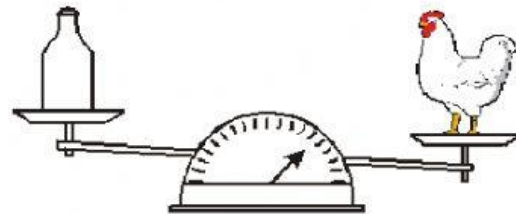
Hay: _____

Todos los cuerpos tienen peso...

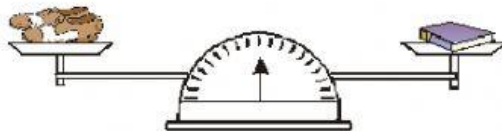
1. Observo la balanza y completo con la palabra más, menos o igual. Valor 4 puntos.



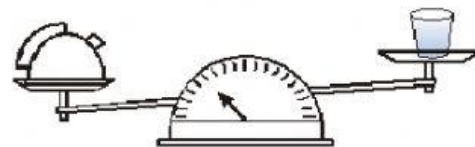
La tiene _____ peso que la .



La tiene _____ peso que el .

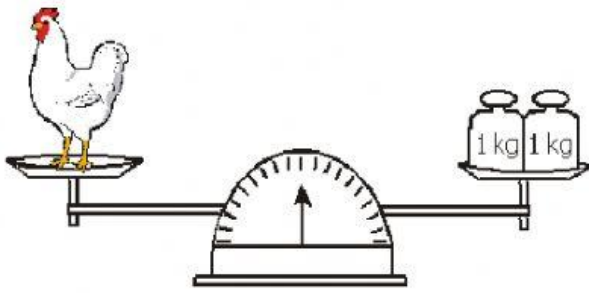


Los tienen _____ peso que el .

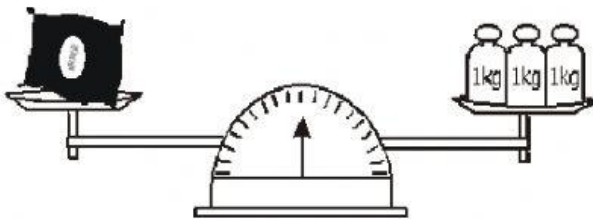


El tiene _____ peso que la .

2-Observo la balanza y escribo el peso de cada objeto. Valor 2 puntos




Peso de la gallina = ____ kg



Peso de la saco de arroz = ____ kg

3. ¿Qué unidad usarías para medir la masa de...? ¿g o kg?
Valor 6 puntos.





MEDIDAS DE TIEMPO



Marca la respuesta correcta: Valor 4 puntos.

- a** 60 segundos hacen un:
- a) hora b) minuto c) segundo
- b** Tres cuarto de hora es igual a:
- a) 15 min. b) 30 min. c) 45 min.
- c** Cada 2 horas pasa un tren de pasajeros. ¿Cuántos trenes pasarán en un día?
- a) 24 b) 13 c) 12
- d** La entrada al colegio es a las 7 de la mañana y la salida es a la 1 de la tarde. ¿Cuántas horas estas en el colegio?
- a) 5h b) 6h c) 7h



Completa y responde: Valor 8 puntos.

- 1** La semana tiene _____ días **5** Media hora tiene _____ minutos
- 2** Una hora tiene _____ minutos **6** Un cuarto de hora tiene _____ minutos
- 3** Cada minuto tiene _____ segundos **7** Tres cuartos de hora son _____ minutos
- 4** ¿Cuántas horas hay en dos días? **8** ¿Cuántos minutos hay en 3 horas?
- _____
- _____