



ESTUDIANTE: _____ FECHA: 06/10/2021

ASIGNATURA: NATURALES

GRADO: TERCERO

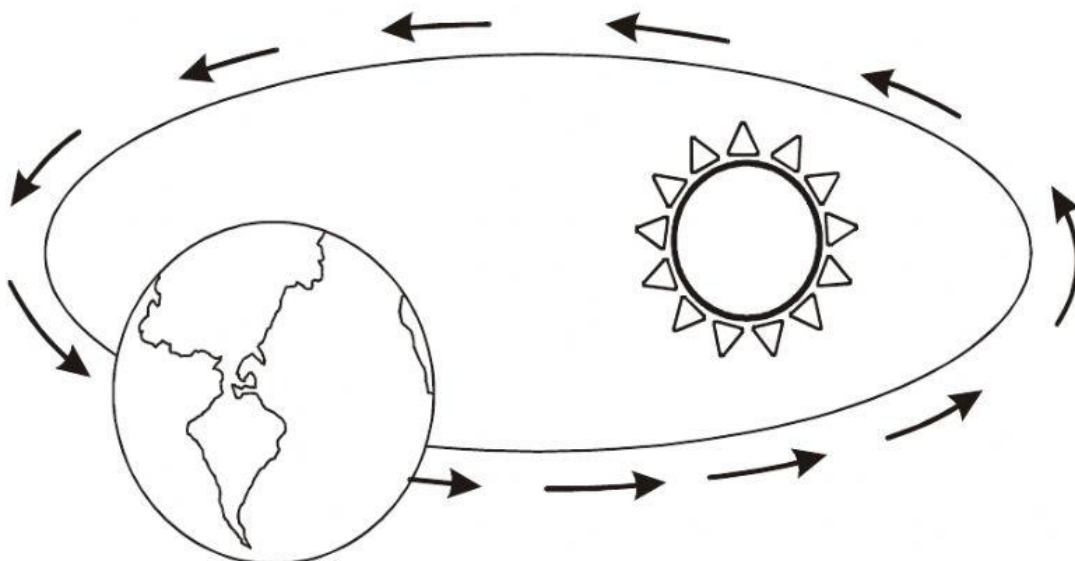
Movimientos de la Tierra

1. Responde:

a) Gira sobre su mismo eje: El movimiento _____.



b) Gira alrededor del Sol: El movimiento de _____.



2. Lee atentamente cada palabra de la nube y luego completa el cuadro:



La Tierra gira alrededor del _____
en una duración de _____ días.

Este movimiento se llama _____
y da origen a las _____ del año.

Las cuales son: _____
_____, _____ y
_____.



3. Lee atentamente cada palabra de la nube y luego completa el cuadro:



La Tierra da una vuelta sobre su mismo
_____ en una duración de
_____ horas.

Este movimiento se llama _____
y da origen al _____ y la
_____.



El día y la noche

1. Completa: Sol - día - Tierra - noche



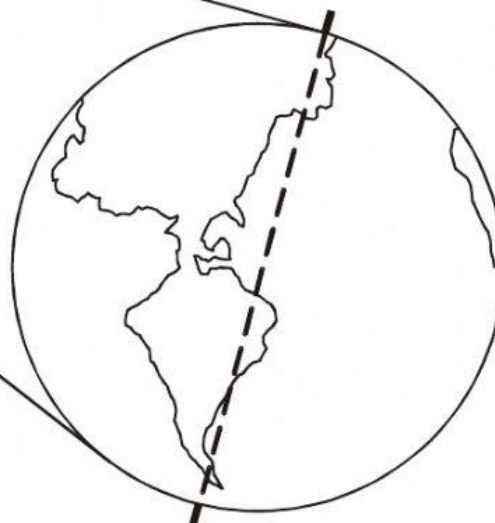

Cuando el _____ ilumina una parte de la

_____. Esa parte será de _____

Mientras que la otra parte que queda oscura será de

_____.

2. Dibuja en tu cuaderno de amarillo el día y de negro la noche. ¡No olvides colorear el Sol!





CENTRO DE ORIENTACIÓN INFANTIL

FICHA ESTUDIANTE

CODIGO:
RE - 05

VERSION:
0

F.A.:
19/11/12

Página
5 de 5

PENSANDO EN EL HOMBRE DEL MAÑANA, EDUCAMOS AL NIÑO DE HOY CON AMOR Y EN ARMONIA CON LA NATURALEZA