



### EVALUACIÓN DE DIAGNÓSTICO DE MATEMÁTICA

NOMBRE:

TERCERO EGB A - B - C


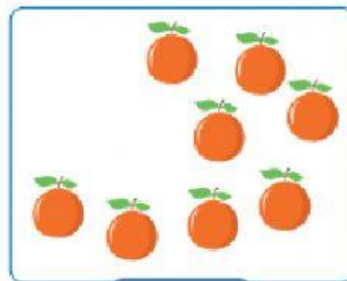

LEA DETENIDAMENTE LAS SIGUIENTES INSTRUCCIONES:

**Instrucciones:**

- Lea detenidamente cada pregunta antes de contestar.
- El valor total de la evaluación es de 10 puntos

*Da siempre lo mejor de ti..*

**PREGUNTA 1.** Escribe cuantas unidades faltan para completa una decena según le caso



**PREGUNTA 2.** Escribe el número que corresponda a cada caso.

<input type="text"/>	<input type="text"/>	<input type="text"/>	<input type="text"/>



**PREGUNTA 3.** Coloca el signo mayor que, menor que, e igual según corresponda.

Número	Signo	Número
68		45
97		64
31		29
46		98
93		81

**PREGUNTA 4.** Completa la tabla arrastrando de manera correcta los números anterior y posterior

anterior		posterior
	35	

anterior		posterior
	3	

anterior		posterior
	42	

anterior		posterior
	56	

anterior		posterior
	64	


anterior		posterior
	15	

anterior		posterior
	11	

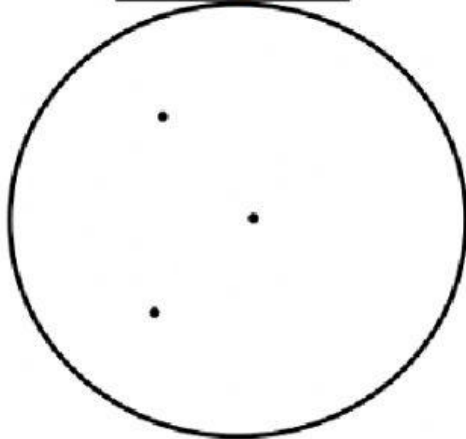
anterior		posterior
	99	



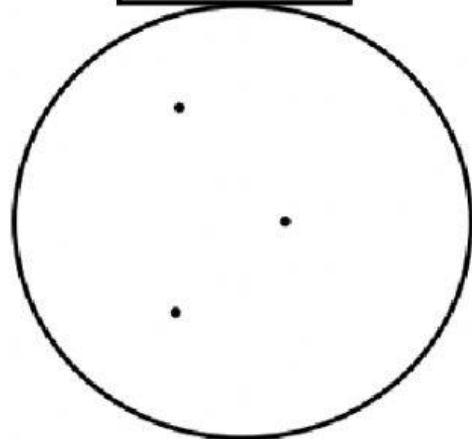
**PREGUNTA 5** Observa las frutas y verduras y clasifícalas según el color, luego arrastra cada verdura y frutas al círculo que corresponde, de izquierda a derecha.



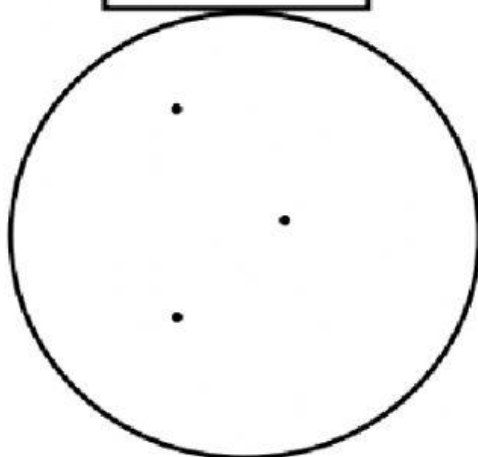
*Rojo*



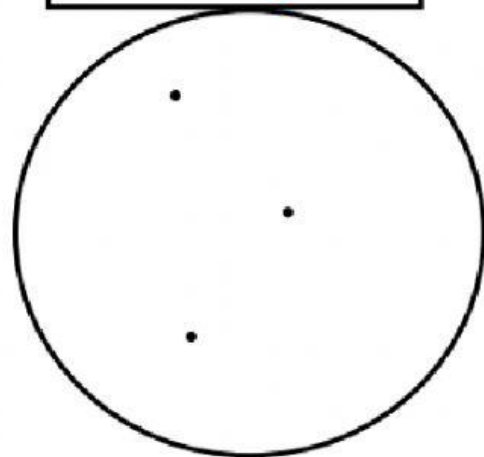
*Verde*



*Amarillo*

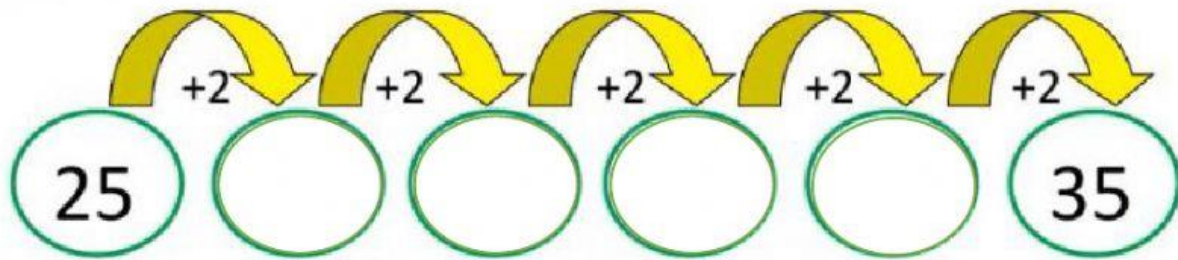


*Anaranjado*





**PREGUNTA 6.** Complete la serie numérica con el patrón + 2



**PREGUNTA 7.** Realiza las siguientes descomposiciones

NÚMERO	ESCRIBE	DESCOMPOSICIÓN
<u>56</u>	..... decenas ..... unidades	$50 + 6 = 56$
<u>65</u>	..... decenas ..... unidades	----- + ----- =
<u>2</u>	..... decenas ..... unidades	----- + ----- =
<u>28</u>	..... decenas ..... unidades	----- + ----- =



**PREGUNTA 8.** Realiza las siguientes sumas

Ordena de forma vertical las siguientes cantidades y resuelve

**23 + 5 =**

	<b>D</b>	<b>U</b>
<input type="text"/>		

**68 - 24 =**

	<b>D</b>	<b>U</b>
<input type="text"/>		

**PREGUNTA 9.** Resuelva los siguientes problemas

- a. Una señora vende 34 periódicos en la mañana y 21 en la tarde. ¿Cuántos periódicos vende en total?

Datos	Razonamiento	Operación										
		<table border="1"><tr><td></td><td><b>D</b></td><td><b>U</b></td></tr><tr><td rowspan="3"><input type="text"/></td><td></td><td></td></tr><tr><td></td><td></td></tr><tr><td></td><td></td></tr></table>		<b>D</b>	<b>U</b>	<input type="text"/>						
	<b>D</b>	<b>U</b>										
<input type="text"/>												
Respuesta:												









b. En un florero hay, 35 rosas entre rojas y amarillas. Si 13 son rojas. ¿Cuántas son amarillas?

Datos	Razonamiento	Operación												
		<table border="1"><tr><td></td><td><b>D</b></td><td><b>U</b></td></tr><tr><td></td><td></td><td></td></tr><tr><td></td><td></td><td></td></tr><tr><td></td><td></td><td></td></tr></table>		<b>D</b>	<b>U</b>									
	<b>D</b>	<b>U</b>												
Respuesta:														

**PREGUNTA 10** Escucha y escribe el número.

<b>ELABORADO</b>	<b>REVISADO</b>	<b>APROBADO</b>
<b>NOMBRE:</b> Lic. Alicia Jácome Lic. Mayra Guevara Lic. Alexandra Yánez	<b>NOMBRE:</b> Lic. Alexandra Yánez <b>COORDINADORA PEDAGÓGICA</b>	<b>NOMBRE:</b> Lcda. Marianita Villota <b>DIRECTORA (E)</b>
<b>FECHA:</b> 27/ 09/2021	<b>FECHA:</b> 27/ 09/2021	<b>FECHA:</b> 27/ 09/2021
<b>FIRMA:</b> .....	<b>FIRMA:</b> .....	<b>FIRMA:</b> .....