



Evaluación Diagnóstica

**Indicaciones:**

Lea atentamente cada pregunta.

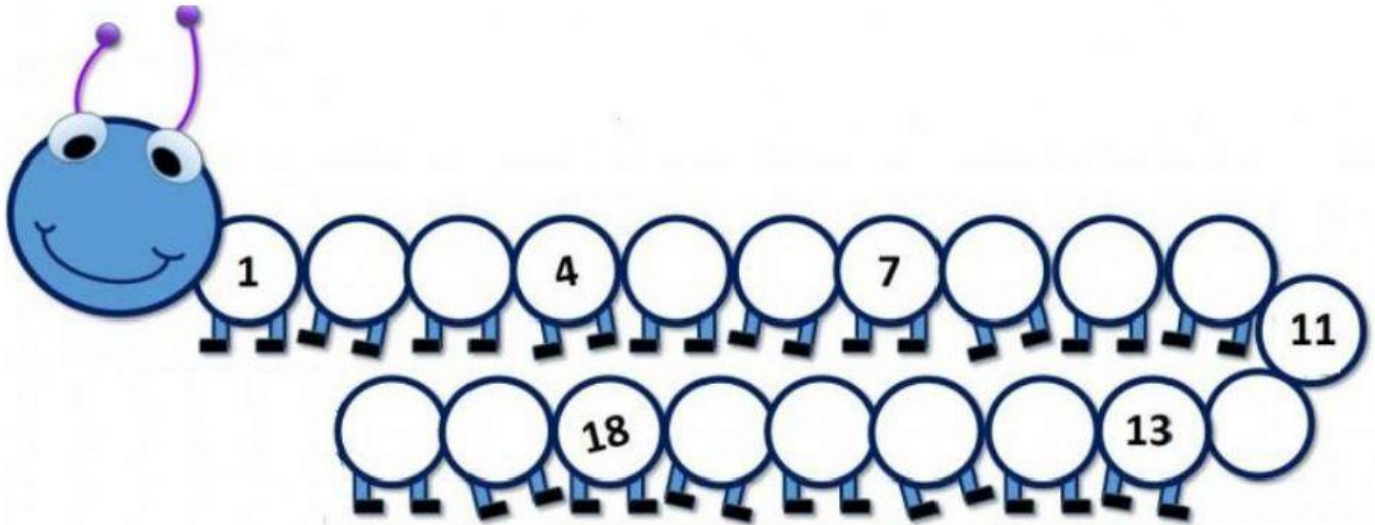
La prueba evaluará lo aprendido durante el año anterior.

1. Contar los elementos y escribir el número que le corresponde dentro de cada frasco.


1 1	5	2
8	10	4
6	4	6





2. Complete el gusano escribiendo los números que faltan.




3. Resuelva las siguientes sumas.




$$4 + 1 = \square$$



$$2 + 2 = \square$$



$$3 + 2 = \square$$



$$2 + 5 = \square$$



$$4 + 2 = \square$$







4. Seleccione la respuesta correcta a las siguientes restas

$3 - 2$	<input type="checkbox"/> 5 <input type="checkbox"/> 1 <input type="checkbox"/> 2	$7 - 4$	<input type="checkbox"/> 9 <input type="checkbox"/> 4 <input type="checkbox"/> 3
$5 - 1$	<input type="checkbox"/> 4 <input type="checkbox"/> 3 <input type="checkbox"/> 6	$2 - 1$	<input type="checkbox"/> 5 <input type="checkbox"/> 3 <input type="checkbox"/> 1
$4 - 2$	<input type="checkbox"/> 2 <input type="checkbox"/> 3 <input type="checkbox"/> 6	$1 - 1$	<input type="checkbox"/> 0 <input type="checkbox"/> 1 <input type="checkbox"/> 2
$8 - 3$	<input type="checkbox"/> 10 <input type="checkbox"/> 5 <input type="checkbox"/> 3	$6 - 3$	<input type="checkbox"/> 6 <input type="checkbox"/> 3 <input type="checkbox"/> 9
$7 - 3$	<input type="checkbox"/> 4 <input type="checkbox"/> 3 <input type="checkbox"/> 5	$9 - 6$	<input type="checkbox"/> 4 <input type="checkbox"/> 5 <input type="checkbox"/> 3





5. Observe las imágenes de la parte inferior de la tabla y arrastre cada una de ellas según su forma a cada casillero de la figura geométrica correspondiente.





**UNIDAD EDUCATIVA FISCOMISIONAL  
"VIRGEN DEL CONSUELO"  
AÑO LECTIVO 2021 - 2022**

