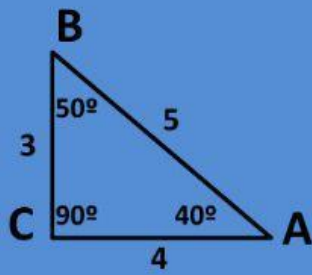
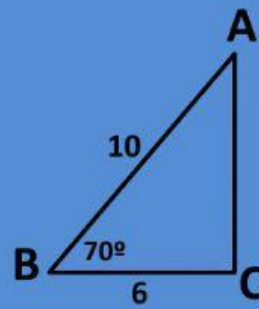


TRIANGULO RECTANGULO Y TEOREMA DE PITAGORAS

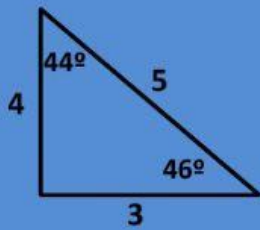
Coloque las respuestas correctas



MEDIDAS	
Lados	Ángulos
a =	A =
b =	B =
c =	C =

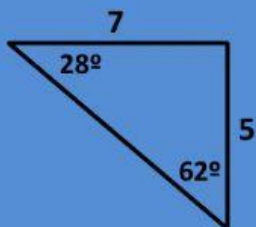


MEDIDAS	
Lados	Ángulos
a =	A =
b =	B =
c =	C =



¿Cuál es el lado opuesto al ángulo de 46°?	
¿Cuál es el lado opuesto al ángulo de 44°?	
¿Valor del lado mayor (Hipotenusa)	

Ubica los lados en el siguiente triangulo



¿Cuál es el lado opuesto al ángulo de 28°?	
¿Cuál es el lado opuesto al ángulo de 62°?	
¿Valor del lado mayor (Hipotenusa)	

