

## SITUACIONES PROBLEMATICAS CON DINERO.

### USO DE MONEDAS.

- **RESOLVÉ LAS SIGUIENTES SITUACIONES PROBLEMÁTICAS, PARA REALIZAR LAS ACTIVIDADES PODES GUIARTE CON EL EJEMPLO DADO.**

**EJEMPLO: MARÍA TIENE EN SU BILLETERA 5 MONEDAS DE \$1 Y SE ENCUENTRA EN EL SUELO 1 MONEDA DE \$1.  
¿CUÁNTO DINERO TIENE AHORA EN TOTAL?**




$$\boxed{5} \quad \boxed{+} \quad \boxed{1} \quad \boxed{=} \quad \boxed{6}$$

- 1) **JUAN TIENE AHORRADO \$7 Y GUARDO EN SU COCHINITO \$1 PESOS MÁS  
¿CUÁNTO DINERO TIENE AHORA EN TOTAL?**




$$\boxed{\phantom{00}} \quad \boxed{+} \quad \boxed{\phantom{00}} \quad \boxed{=} \quad \boxed{\phantom{00}}$$

- 2) CLAUDIA TIENE \$6 Y SUS HIJOS LE REGALARON \$2  
¿CUÁNTO DINERO TIENE AHORA EN TOTAL?



	+		=	
--	---	--	---	--


- 3) LUCAS TIENE \$4 Y EL PADRE LE REGALO \$5 PARA QUE SE COMPRA UNA GALLETITA.  
¿CUÁNDO DINERO TIENE AHORA EN TOTAL?



	+		=	
--	---	--	---	--

- 4) **MICAELA TIENE \$3 Y SE ENCUENTRA EN LA CALLE CAMNINO A LA ESCUELA \$3 MÁS**


**¿Cuánto DINERO TIENE AHORA EN TOTAL?**



	+		=	
--	---	--	---	--

- 5) **JUANA TIENE \$8 Y SU ABUELA LE REGALO \$2**

**¿Cuánto DINERO TIENE AHORA EN TOTAL?**



			=	
--	--	--	---	--