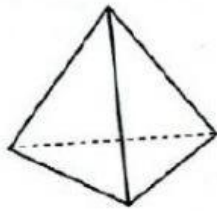


PIRÀMIDES

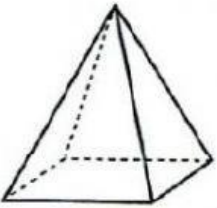
Escriu sota de cada piràmide el seu nom. Després contesta:



Número de cares laterals:

Número de bases: Quin polígon forma la seva base?

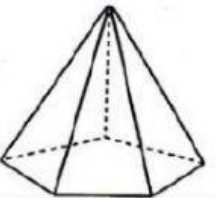
Número de vèrtexs: Número d'arestes:



Número de cares laterals:

Número de bases: Quin polígon forma la seva base?

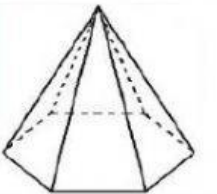
Número de vèrtexs: Número d'arestes:



Número de cares laterals:

Número de bases: Quin polígon forma la seva base?

Número de vèrtexs: Número d'arestes:



Número de cares laterals:

Número de bases: Quin polígon forma la seva base?

Número de vèrtexs: Número d'arestes: