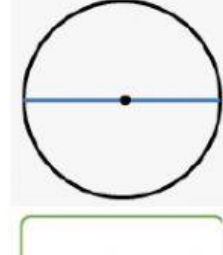
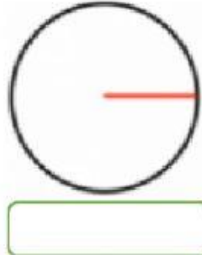


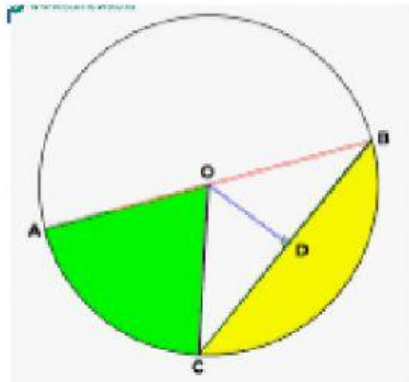
LEMBAR KERJA MATEMATIKA


Nama :
Kelas :
No Absen :

1. Pilihlah nama bagian pada lingkaran berikut!



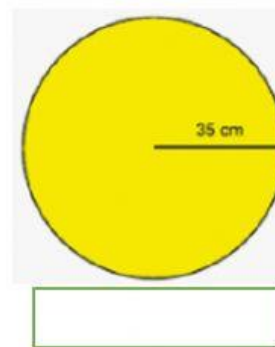
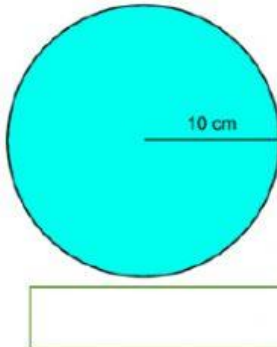
2. Perhatikan gambar lingkaran berikut ini!
Pasangkan bagian kiri dengan bagian kanannya!



AB ■
OA, OB, OC ■
OD ■
BC ■
 ■

■ Apotema
■ Diameter
■ Busur
■ Jari – jari
■ Tali Busur

3. Tentukan panjang diameter dari lingkaran berikut ini!



4. Tentukan panjang jari-jari dari lingkaran yang berdiameter sebagai berikut!

