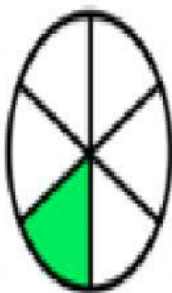
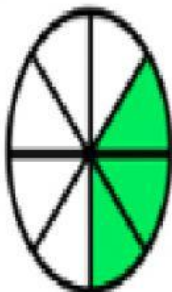
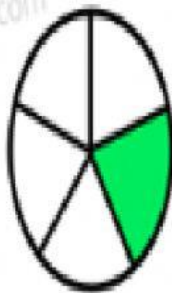
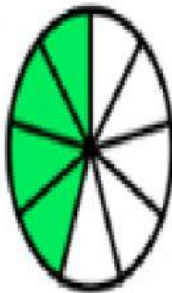
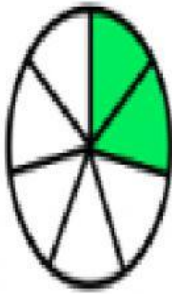


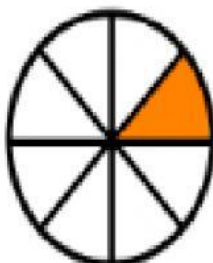
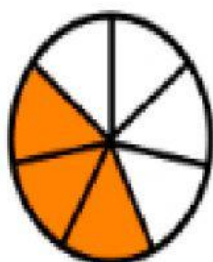
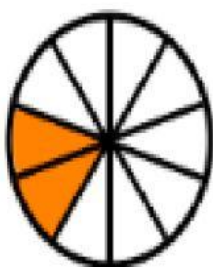


Fecha	Sep 27 -28	Cod.		Grado	3°
Nombre					
Indicador de Logro	Identifica diferentes clases de fracciones				
Docente	Aura Edith Rueda Izasa				

Escribir en letra como se lee la fracción coloreada en cada caso



Unir cada imagen con su respectiva fracción



$$\frac{1}{8}$$

$$\frac{3}{7}$$

$$\frac{1}{7}$$

$$\frac{2}{10}$$

$$\frac{1}{9}$$

$$\frac{3}{9}$$

edufichas.com

Escribir **SI** **O NO** las siguientes fracciones son mayores que la

$$\frac{1}{9} \quad \boxed{}$$

$$\frac{3}{4} \quad \boxed{}$$

$$\frac{3}{7} \quad \boxed{}$$

$$\frac{12}{24} \quad \boxed{}$$

$$\frac{4}{16} \quad \boxed{}$$

$$\frac{6}{8} \quad \boxed{}$$

$$\frac{5}{6} \quad \boxed{}$$

$$\frac{25}{45} \quad \boxed{}$$

$$\frac{4}{7} \quad \boxed{}$$

$$\frac{12}{25} \quad \boxed{}$$

Buscar la fracción equivalente y ubicarla donde corresponda

$$\frac{15}{10}$$

$$\frac{1}{3}$$

$$\frac{6}{12}$$

$$\frac{1}{2}$$

$$\frac{8}{16}$$

$$\frac{2}{4}$$

$$\frac{7}{21}$$

$$\frac{3}{2}$$