


Marca la operación correcta para que el resultado del globo sea cierto.



$4 \times 5$

$6 \times 4$


$2 \times 5$



$6 \times 7$

$5 \times 7$


$6 \times 6$



$8 \times 9$

$7 \times 8$

$9 \times 9$



$4 \times 5$

$5 \times 3$

$6 \times 5$



$4 \times 6$

$4 \times 4$

$2 \times 6$



$4 \times 0$

$2 \times 2$

$2 \times 1$



$4 \times 9$

$5 \times 2$

$3 \times 6$



$3 \times 9$

$2 \times 7$

$8 \times 4$

