






NOME:



A LAGARTA ESTAVA MUITO FAMINTA.
VAMOS CONTAR TODAS AS FRUTAS QUE
ELA COMEU POR AÍ. CONTE AS FRUTAS E
ESCREVA OS NUMERAIS
CORRESPONDENTES NOS RETÂNGULOS:

				
<input type="text"/>	<input type="text"/>	<input type="text"/>	<input type="text"/>	<input type="text"/>

CLIQUE NA RESPOSTA CORRETA:

QUANTAS FRUTAS A LAGARTA COMEU NO TOTAL?

SE JUNTARMOS AS MAÇÃS E AS LARANJAS, QUANTAS
FRUTAS TEREMOS?

SE JUNTARMOS AS BANANAS E AS AMEIXAS QUANTAS
FRUTAS TEREMOS?

QUAL A FRUTA QUE A LAGARTA COMEU MENOS??

.....