


Observa y escucha el siguiente video para recordar los tipos de líneas que conocemos.



¿Ya has visto el video? Escribe HECHO


Después de recordar brevemente lo que ya sabíamos sobre las líneas, vamos a realizar las siguientes actividades.

➤ Une con flechas cada imagen con su nombre.




○

Línea curva abierta



○

Línea poligonal abierta



○

Línea poligonal cerrada



○

Línea curva cerrada



○

Línea recta

➤ Elige la opción correcta para nombrar la siguiente figura.



Es una línea

Es una línea




➤ Coloca el nombre debajo de cada imagen.

Líneas paralelas

Líneas perpendiculares

Líneas secantes



➤ Finalmente escribe verdadero o falso según corresponda.

- Las rectas paralelas nunca se llegan a tocar.
- Las rectas perpendiculares cuando se cortan forman cuatro ángulos diferentes.
- Las rectas que se cortan en un punto se llaman secantes.