



ESCOLA MUNICIPAL ANTÔNIO SEMEÃO LAMENHA LINS

NOME: _____

PROFESSORA: EDJANE DATA: ____/____/____

MARQUE UM (X) NO NOME DAS FIGURAS GEOMÉTRICAS:

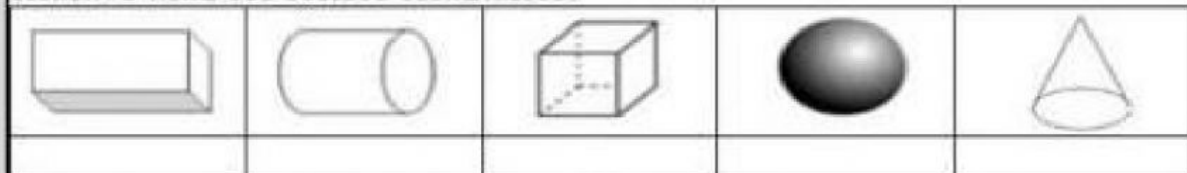
			
<input type="checkbox"/> CÍRCULO	<input type="checkbox"/> CÍRCULO	<input type="checkbox"/> CÍRCULO	<input type="checkbox"/> CÍRCULO
<input type="checkbox"/> RETÂNGULO	<input type="checkbox"/> RETÂNGULO	<input type="checkbox"/> RETÂNGULO	<input type="checkbox"/> RETÂNGULO
<input type="checkbox"/> QUADRADO	<input type="checkbox"/> QUADRADO	<input type="checkbox"/> QUADRADO	<input type="checkbox"/> QUADRADO
<input type="checkbox"/> TRIÂNGULO	<input type="checkbox"/> TRIÂNGULO	<input type="checkbox"/> TRIÂNGULO	<input type="checkbox"/> TRIÂNGULO



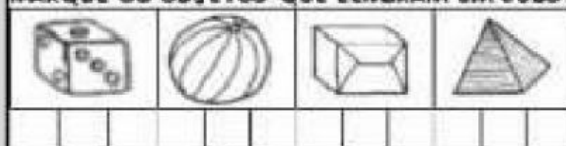
SÓLIDOS GEOMÉTRICOS



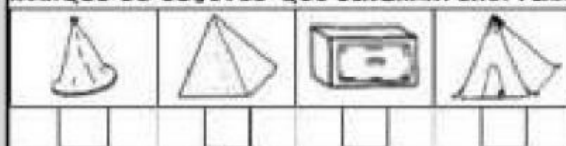
ESCREVA O NOME DOS SÓLIDOS GEOMÉTRICOS:



MARQUE OS OBJETOS QUE LEMBRAM UM CUBO:



MARQUE OS OBJETOS QUE LEMBRAM UMA PIRÂMIDE:



MARQUE OS OBJETOS QUE LEMBRAM UM PARALELEPÍPEDO:

