

TALLER DE LOS CONJUNTOS



NOMBRE:

FECHA:

CONJUNTOS POR COMPRENSIÓN Y EXTENSIÓN

1. Determine por comprensión cada conjunto:



A = { }

B = { }

C = { }

2. Determine por extensión cada conjunto:

D = {días de la semana}

D = { }

E = {colores de la bandera}

E = { }

F = {meses de 30 días}


F = { }

CONJUNTOS UNIVERSO

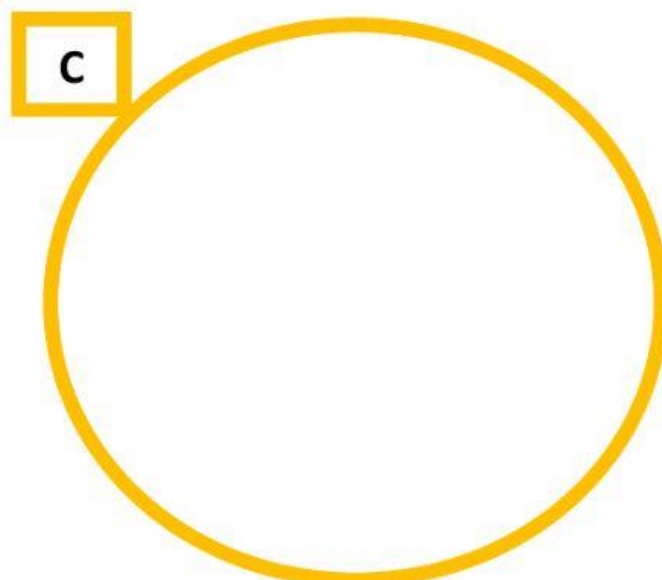
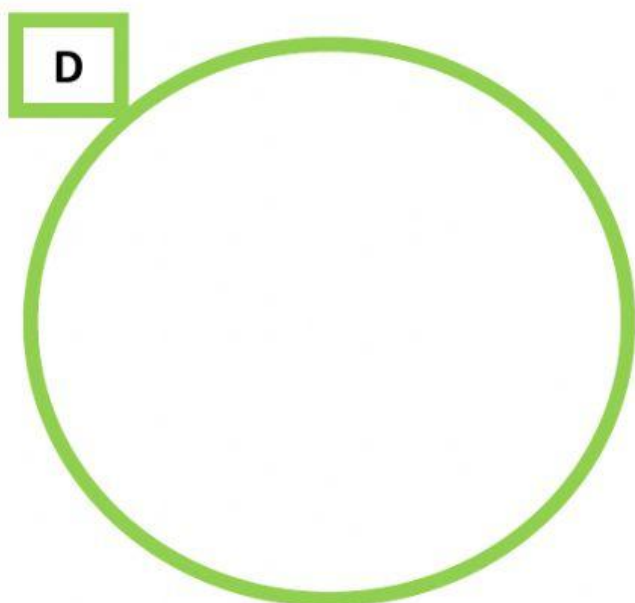

3. Seleccione la letra con la que se representa al conjunto universo:

- a) N
- b) P
- c) T
- d) U

4. Seleccione los signos de contiene y no contiene:



5. Cree dos subconjuntos a partir del conjunto universo:



ELEMENTOS	CONJUNTO D	CONJUNTO C
Vaca		
Pato		
Gallo		
Paloma		
Caballo		