



Evaluación Unidad 6, lección 1 "Gráficos"



Nombre: \_\_\_\_\_

**2° Básico " "**

Pje Ideal: 27 / Pje real: \_\_\_\_\_

**I.- Pinta la única alternativa correcta. (9 puntos)**

**Observa la tabla para responder las preguntas 1, 2, 3 y 4.**

Figura preferida por un grupo de niños				
Figura				
Preferencias	10	12	7	11

**1. ¿Cuál es la figura preferida por los niños?**

- A. ☐ Estrella.
- B. ☐ Triángulo.
- C. ☐ Círculo.

**2. ¿Cuántos niños prefieren la estrella?**

- A. ☐ 7
- B. ☐ 11
- C. ☐ 10

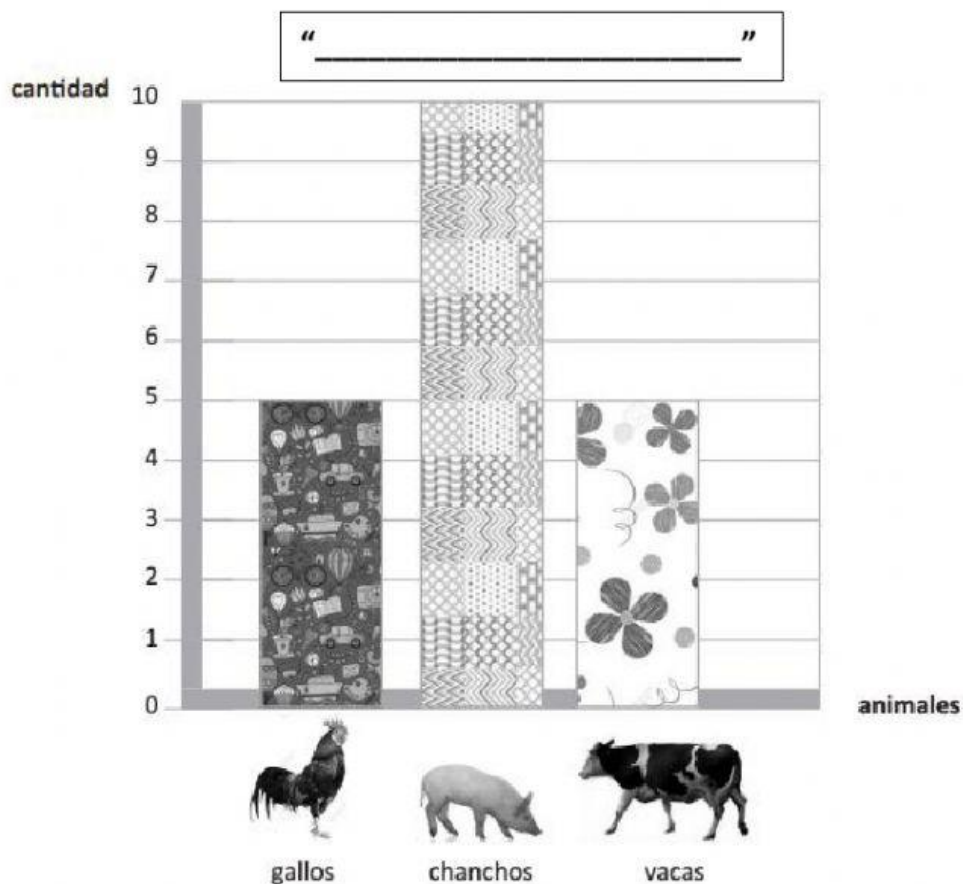
**3. ¿Cuál es la afirmación incorrecta?**

- A. ☐ Cuatro niños más prefieren el círculo que el cuadrado.
- B. ☐ La estrella la eligió un niño más que el triángulo.
- C. ☐ El triángulo fue elegido por 10 niños.

4. ¿Cuál es la figura menos elegida por el grupo?

- A. ☐ Triángulo.
- B. ☐ Cuadrado.
- C. ☐ Estrella.

Observa el gráfico para responder las preguntas 5, 6, 7, 8 y 9.



5. ¿Cuántos animales hay en total?

- A. ☐ 10
- B. ☐ 20
- C. ☐ 30

6. ¿Cuál es el animal que hay en mayor cantidad?

- A. ☐ gallos.
- B. ☐ chanchos.
- C. ☐ vacas.

7. Para saber cuál es el animal de mayor cantidad solo debo

- A. ☐ Observar cuál es la barra más baja.
- B. ☐ Observar cuál es la barra más alta.
- C. ☐ Observar el color de las barras.

8. ¿Hay animales con la misma cantidad?

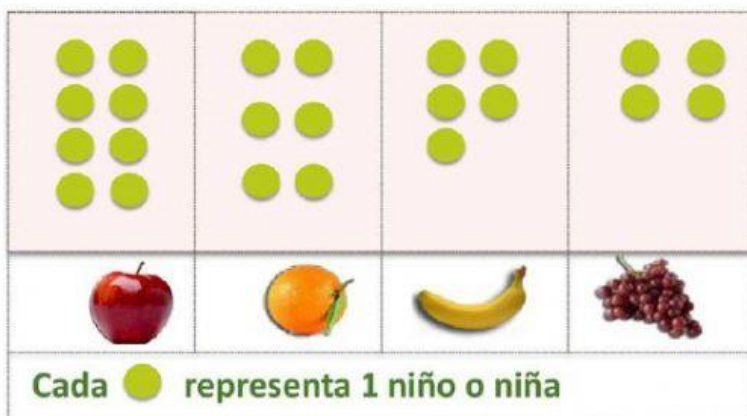
- A. ☐ No, no hay.
- B. ☐ Sí, gallos y vacas.
- C. ☐ No se puede saber solo observando el gráfico.

9. ¿Qué título le pondrías?

- A. ☐ Animales de la granja.
- B. ☐ Mi mascota favorita.
- C. ☐ Animales del zoológico.

II.- Escribe una V si la afirmación es verdadera y una F si es falsa, justifica las falsas. (6 puntos)

"Frutas favoritas del 2º Básico"



a) \_\_\_\_\_ 22 niños respondieron la encuesta.

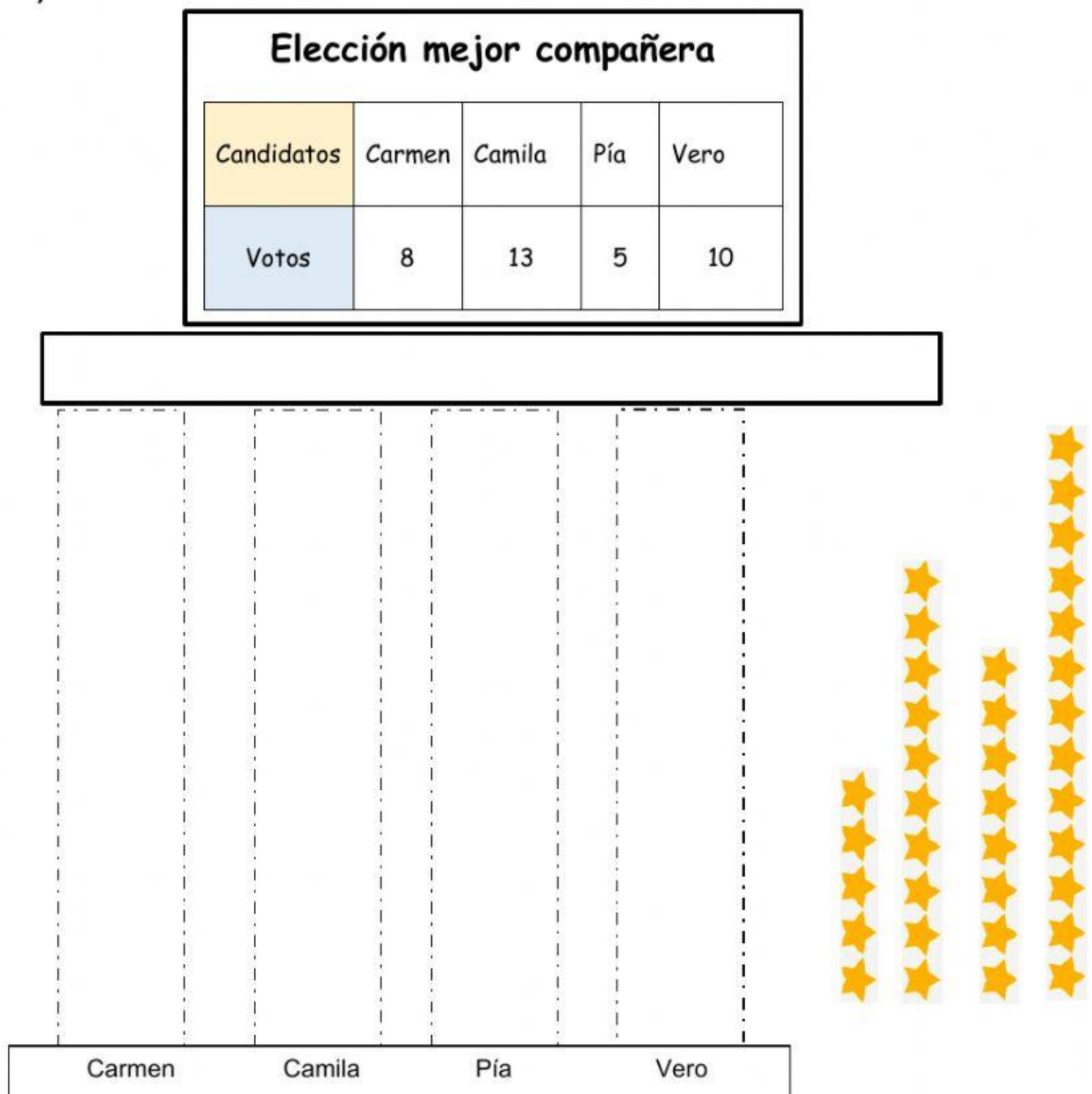
b) \_\_\_\_\_ La fruta favorita es la manzana.

c) \_\_\_\_\_ La fruta menos favorita es el plátano.

d) \_\_\_\_\_ Al plátano le falta 1 preferencia para igualar a la naranja.

III.- Construye un pictograma.

Arrastra los símbolos para representar los datos. Escribe su título. (12 puntos)



a) ¿Quién fue elegida “Mejor compañera”?

b) ¿Cuántos votos más que Carmen obtuvo Camila?

c) ¿Quién obtuvo 5 votos más que Pía?