






Nombre: _____

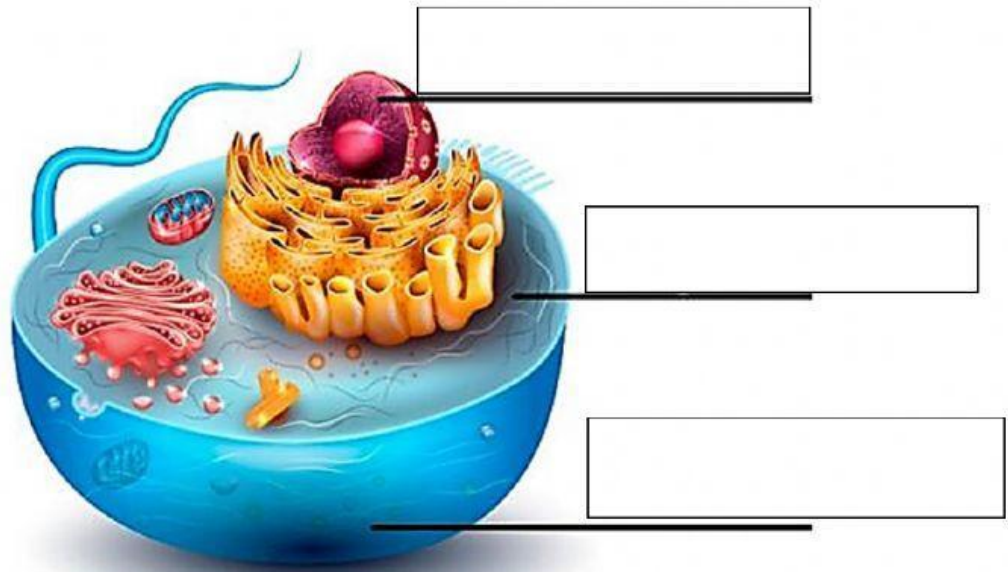
Fecha: _____

I. Instrucciones: Parea la palabra con la imagen correspondiente.

célula	núcleo	citoplasma	membrana	microscopio
--------	--------	------------	----------	-------------

II. Escribe el nombre que falta.



III. Ordena el esquema de organización multicelular.

1	2	3	4	5
----------	----------	----------	----------	----------

organismo o individuo	célula	órganos	sistemas o aparatos	tejido
------------------------------	---------------	----------------	----------------------------	---------------