

**EVALUACIÓN DEL SEGUNDO PARCIAL**  
**PRIMER QUIMESTRE**

<b>DOCENTE:</b>	BORBOR ARMENDÁRIZ MELANY NOEMÍ	<b>NOMBRE DEL ESTUDIANTE:</b>	
<b>GRADO/CURSO:</b>	GRADO 5	<b>CALIFICACIÓN:</b>	
<b>ASIGNATURA:</b>	CIENCIAS NATURALES	<b>FECHA:</b>	

Instrucciones

- 1.- El tiempo estimado para el desarrollo de la evaluación es de 35 minutos.
- 2.- La evaluación es individual y es para valorar sus conocimientos, por lo tanto, se prohíbe realizar consultas en internet o en el material de clases, durante el tiempo de la evaluación.
- 3.- Analice cada tema antes de contestar.

**ÍTEM DE IDENTIFICACIÓN**

**2 PUNTOS**

**1. ARRASTRA LOS NOMBRES DE LOS PLANETAS, SEGÚN CORRESPONDA**

Urano

Tierra

Mercurio


Saturno

Marte

Venus

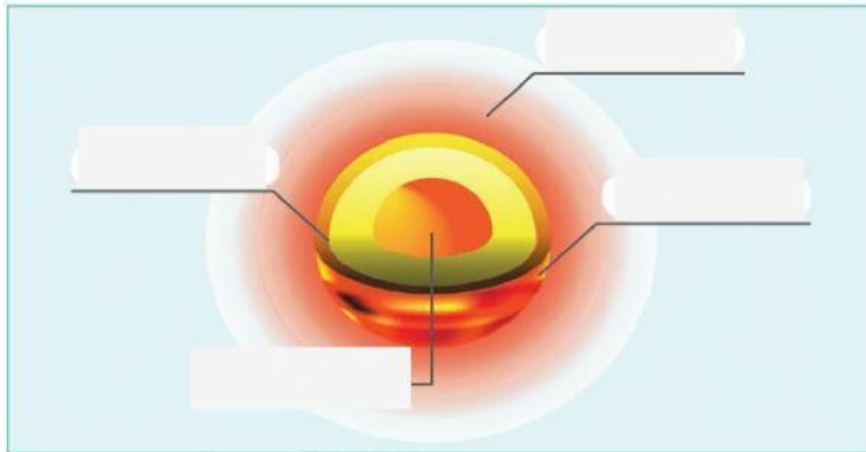
Júpiter

Neptuno



\*Activar...  
1ª Config

**2. UBICA LOS NOMBRES DE LAS PARTES DEL SOL SEGÚN CORRESPONDA.**

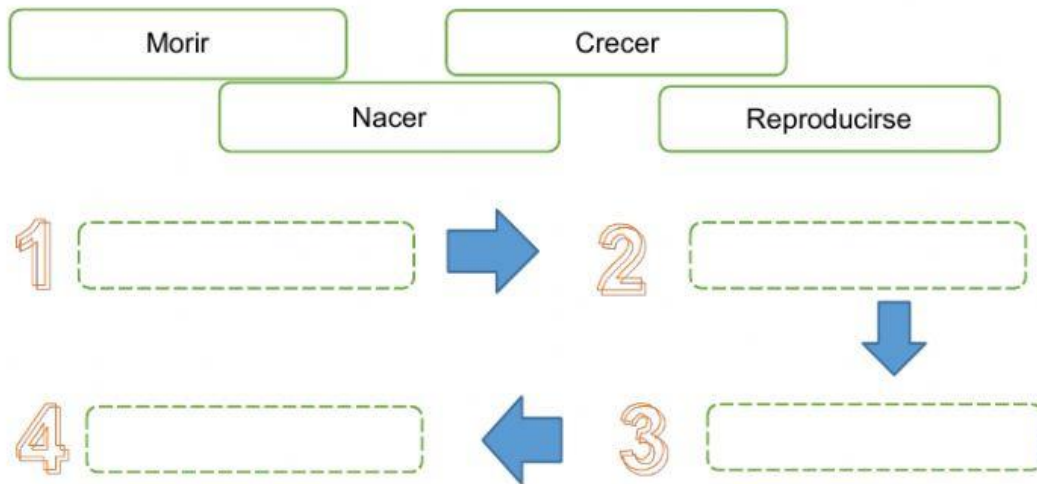


- Fotósfera
- Cromósfera
- Corona
- Núcleo

**ITEM DE ORDENAMIENTO**

**2 PUNTOS.**

**3. ORDENA EL CICLO DE VIDA DE LAS PLANTAS.**

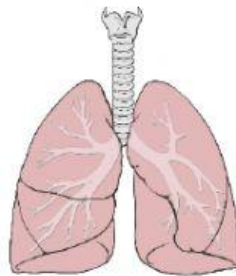
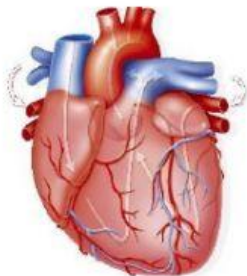


**ÍTEM DE IDENTIFICACIÓN**



**2 PUNTOS**

**4. SELECCIONA LA IMAGEN CORRECTA**

a) Es un músculo hueco que se ubica en el lado izquierdo y superior del tórax, entre los pulmones:




b) Su función es transportar oxígeno o dióxido de carbono:



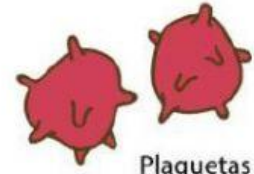
c) Su función es defender al organismo:



Glóbulos rojos



Glóbulos blancos




Plaquetas

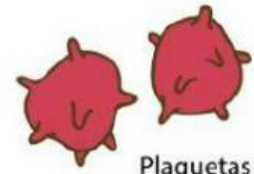
d) Su función es la coagular la sangre y cicatrizar heridas:



Glóbulos rojos

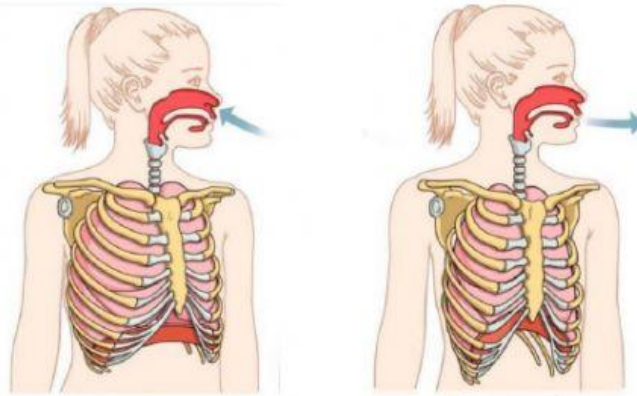


Glóbulos blancos

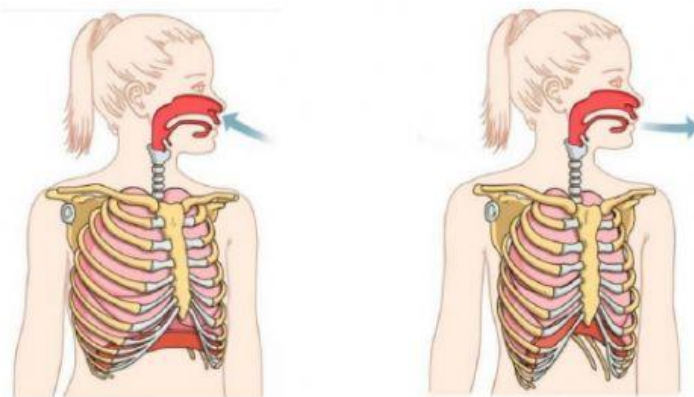


Plaquetas

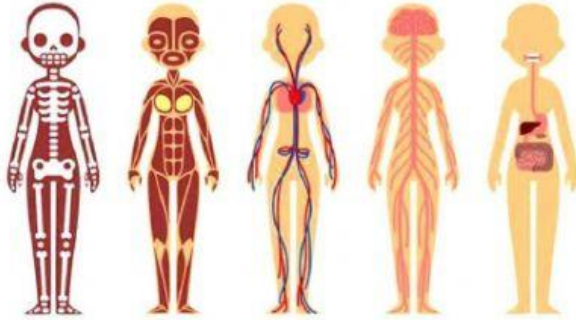
e) Seleccione la imagen que represente la INHALACIÓN o INSPIRACIÓN:



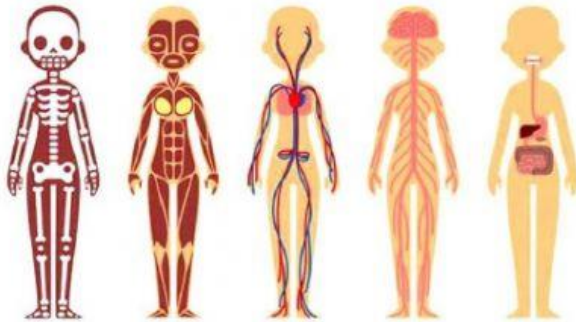
f) Seleccione la imagen que represente la EXHALACIÓN o ESPIRACIÓN:



g) Seleccione la imagen que represente el sistema digestivo:



h) Seleccione la imagen que represente el sistema circulatorio:



ÍTEM DE RELACIÓN DE CORRESPONDENCIA  
5. UNE SEGÚN CORRESPONDA

2 PUNTOS



Contaminación de la tierra

Contaminación del aire

Contaminación del agua

<b>DOCENTE</b> Prof. Borbor Armendáriz Melany	<b>COMISIÓN PEDAGÓGICA</b> Ing. Yuliana Clemente P.	<b>DIRECTOR</b> Ing. Gabriel Medina D.