



UNIDAD EDUCATIVA PARTICULAR
ADVENTISTA LOMA LINDA
Año lectivo 2019-2020
"Más que enseñanza"

EVALUACIÓN
DEL 1ER
QUIMESTRE

CODIGO:
2019-2020

Calificación:

F.REPRESENTA
NTE

"Todo lo puedo en Cristo que me fortalece"
Deuteronomio 4:13

Nombre del estudiante:

AÑO/CURSO:

6TO EBM

Docente: Ing. Cinthya Zamora

Asignatura: Matemática

FECHA:

Indicaciones: Lea detenidamente y conteste de acuerdo a lo solicitado.

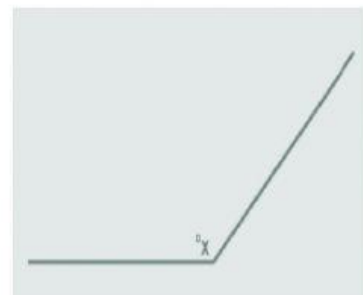
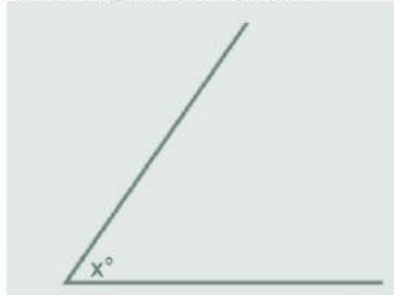
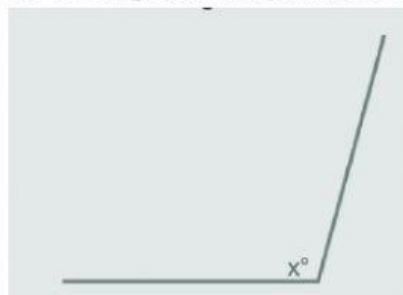
Si utiliza corrector en las respuestas de selección o hay tachón se anula la pregunta.

La pregunta debe tener su respectivo proceso para tener la totalidad de valor. Debe desarrollar su examen solo, sin consultar a compañeros, ni material de apoyo (cuaderno, libro, fichas, etc.) Caso contrario se le retira el examen y se le califica solo hasta donde tiene contestado.

A.- Colorea las cifras cuyo valor den el resultado de la operación. 4 puntos

Adición=	8'595.858	=	1'825.683	2843.203	5'752.655	5'600.175
Sustracción=	5'785.092		2'435.181	8'220.273	7'750.174	1'950.082
Multiplícala=	3'878.764	=	57.892	69	67	63.456
Divide=	65	=	4745	61	73	3575

B.- Use el graduador y mida los siguientes ángulos. 1,5 puntos



C.- Calcula el mínimo común múltiplo y el máximo común divisor y seleccione la respuesta correcta. 3 punto

48, 36, 56

m.c.m.=336 M.C.D=8

m.c.m.=1008 M.C.D=4

m.c.m.=504 M.C.D=4

72, 81

m.c.m.=524 M.C.D=9

m.c.m.=648 M.C.D=9

m.c.m.=724 M.C.D=9

C.- Complete la siguiente tabla. 1,5 puntos

	ÍNDICE	RADICANDO	RESULTADO (RAÍZ)
$\sqrt[3]{27}$	<input type="text"/>	<input type="text"/>	<input type="text"/>
$\sqrt[5]{\square}$	5	32	<input type="text"/>
$\sqrt[3]{\square}$	3	<input type="text"/>	4
$\sqrt{49}$	<input type="text"/>	<input type="text"/>	<input type="text"/>
$\sqrt{\square}$	<input type="text"/>	81	9

ELABORADO POR:	Revisado por:	Para constancia
Ing. Cinthya Zamora	Prof. Javier Mariño	
Docente	Rector	Estudiante
F.	F.	f.