

Matemáticas 1

Densidad de fracciones y números decimales

Ubica las siguientes fracciones $\frac{7}{5}, \frac{8}{15}, \frac{19}{6}, \frac{7}{8}, \frac{4}{3}, \frac{39}{9}$



Anota la fracción que se ubica exactamente a la mitad entre los dos numero

$\frac{1}{2}, -, 1$

$\frac{1}{8}, -, \frac{2}{8}$

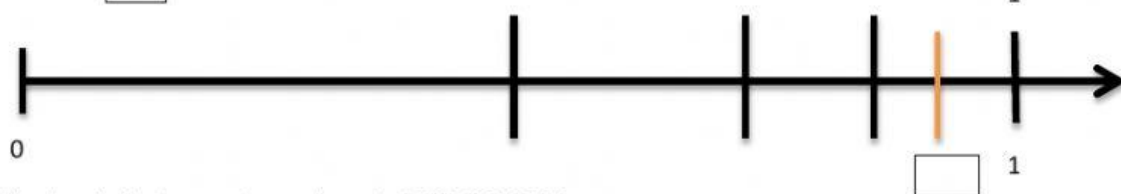
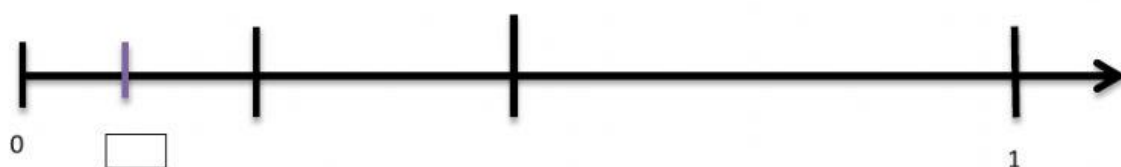
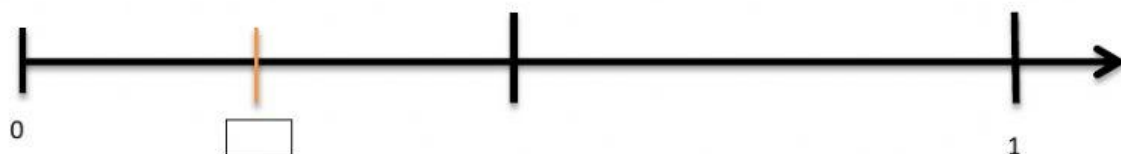
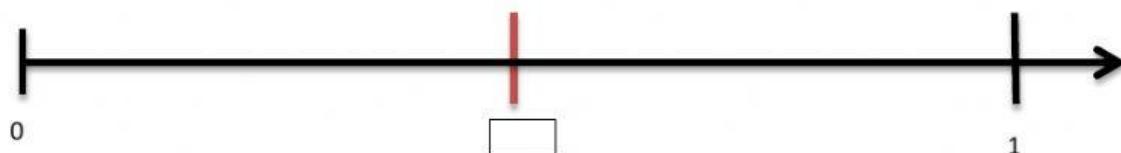
$\frac{1}{32}, -, \frac{2}{32}$

$\frac{1}{4}, -, \frac{2}{4}$

$\frac{1}{16}, -, \frac{2}{16}$

$\frac{3}{5}, -, \frac{4}{5}$

Observa las rectas y escribe la fracción que corresponda a cada línea marcada



Ubica los siguientes puntos en la recta 0.85, 0.1, 0.38

