

- En la biblioteca del colegio se lleva un seguimiento de los libros prestados a estudiantes, observa la tabla y responde:

Estudiante	Cantidad de libros	Total
Martín		
Lucía		
Ana		
Manolo		



10

- Completa el total del pictograma anterior.
- ¿Cuántos libros prestó Lucía en total?  
 A. 30 libros                      B. 35 Libros                      C. 70 Libros
- ¿Qué estudiante prestó más libros?  
 A. Lucía                      B. Manolo                      C. Martín
- ¿Cuál es la diferencia de libros entre Manolo y Martín?  
 A. 10 libros                      B. 5 Libros                      C. 15 Libros
- ¿Qué estudiante prestó menos libros?  
 A. Ana                      B. Manolo                      C. Martín

6. Observa el siguiente pictograma y responde las preguntas 7 y 8.



7. ¿Cuántas entradas menos se vendieron el día jueves que el miércoles?

a. 20

b. 15

c. 10




8. ¿Cuántas entradas se vendieron en total en todos los días?

a. 70

b. 75

c. 80

9. Relaciona la cantidad con el número correspondiente:



8

12

7



10. Observa las siguientes comidas y completa las 2 diferentes combinaciones posibles:



Batido de fresa =













Hamburguesa



Coca cola =



11. Observa la siguiente tabla de doble entrada y arrastra según corresponda.

?	•	••	•••			
						
						
						

¡¡DIOS TE BENDIGA, ÉXITOS!!