



UNIDAD EDUCATIVA "DEMETRIO AGUILERA MALTA"

Durán - Ecuador

2021- 2022


EXAMEN DEL PRIMER QUIMESTRE

DOCENTE (S)	ASIGNATURA	NIVEL	FECHA			CALIFICACION
Lcda. Katherine Banchòn T.	Computación	Básico Media/Elemental/Superior				
ESTUDIANTE	AÑO/CURSO	PARALELO	M E S	D I A	AÑO	
	Primero					

1. Seleccione los tipos de computadoras que hay. (1.25 puntos)



2. Reconozca las partes del monitor y señale. (1.25 puntos)



😊 Base de pantalla.

😊 Botón de encendido y apagado.

😊 Pantalla

3. Una las partes del teclado. (1.25 puntos)



Teclas direccionales

Teclado alfabético

Teclado numérico

4. Una con línea según indique. (1.25 puntos)

El  se mueve por todas partes como una

El  se mueve por todo el

El  trabaja con el





**UNIDAD EDUCATIVA
"DEMETRIO AGUILERA MALTA"**

Durán - Ecuador

2021- 2022

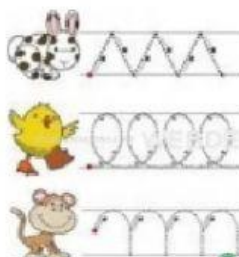
5. Encierre la posición correcta que se debe mantener frente al computador. (1.25 puntos)



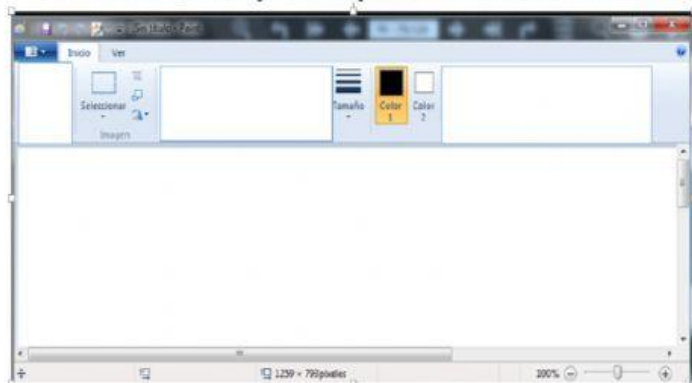
6. seleccione (X) en el tachó de pintura o color de relleno de paint. (1.25 puntos)



7. Encierre en un círculo con qué herramienta podemos trabajar en paint los siguientes trazos. (1.25 puntos)



8. Una con las partes que hacen falta de la ventana de paint. (1.25 puntos)



ELABORADO		REVISADO		APROBADO	
DOCENTE	Lcda. Katherine Banchòn	COMISION PEDAGOGICA		DIRECTORA	Msc. Astrid Herrera
FIRMA		FIRMA		FIRMA	
FECHA		FECHA		FECHA	