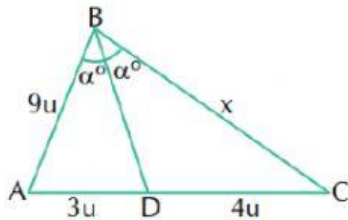




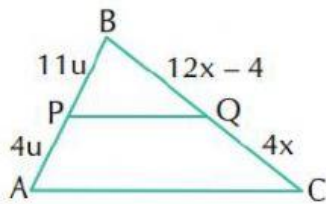
Une el problema con su respuesta.

Del gráfico, calcule "x", si  $\overline{BD}$  es bisectriz.



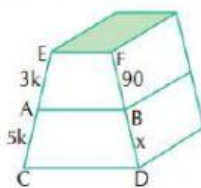
$$x = 4$$

Del gráfico, calcule "x", si:  $\overline{PQ} \parallel \overline{AC}$ .



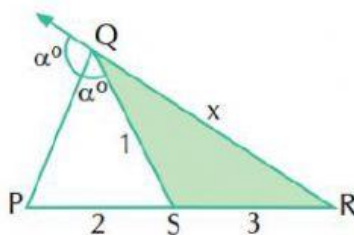
$$x = 2,5$$

Se tiene un taburete de la siguiente forma.  
Calcule "x" para que  $\overline{AB} \parallel \overline{CD} \parallel \overline{EF}$ .



$$x = 150$$

Calcule "x" del gráfico mostrado.



$$x = 12$$