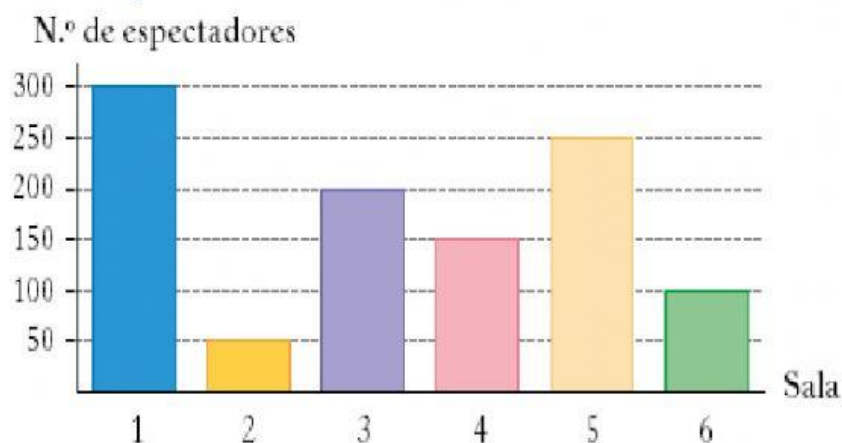


	ESCUELA ADVENTISTA DE HUALPÉN Matemática Prof.: Luis Martínez Silva	GUÍA DE APRENDIZAJE 4° Año "Gráficos y Pictogramas"	Validación
Nombre:			
Objetivo de Aprendizaje: OA 27 - Leer e interpretar pictogramas y gráficos de barra simple con escala, y comunicar sus conclusiones.			
HABILIDADES: Comprender, Aplicar, Analizar, Evaluar.			
			Porcentaje de logro.

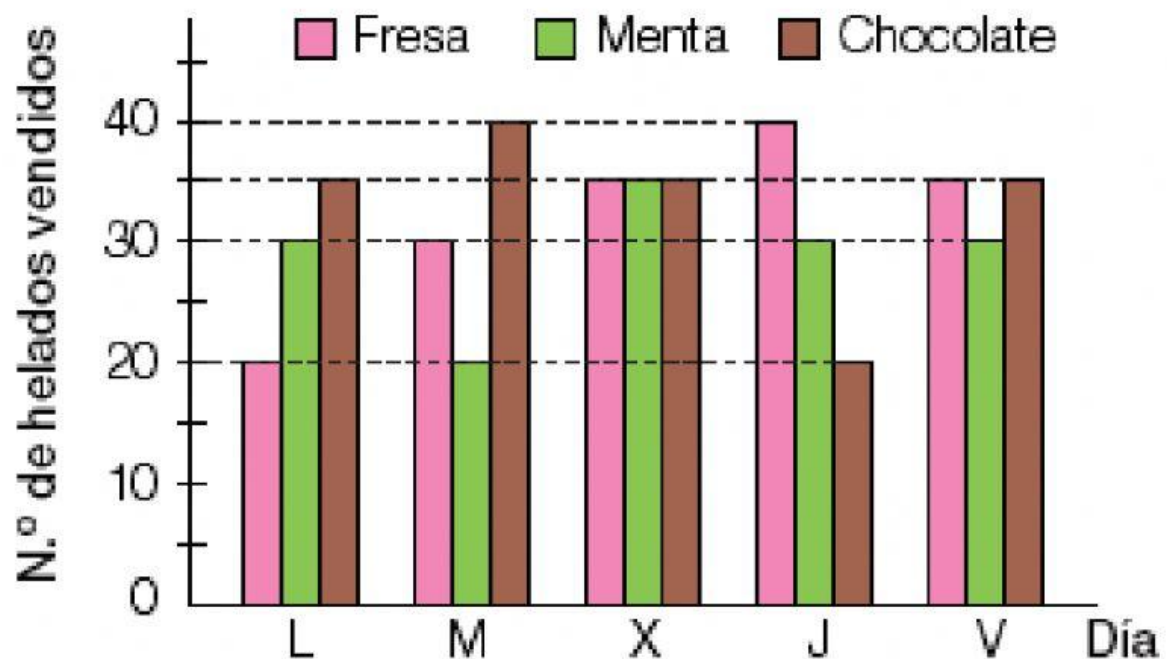
1.- Observa el gráfico de barras que representa el número de espectadores que asistió a 6 salas de cine en un día.



Con esta información, contesta las siguientes preguntas:


- ¿Cuántas personas acudieron a la sala número cuatro?
- ¿En qué sala se ha dado la película más vista?
- ¿En qué sala se puso la película menos vista?
- ¿Cuál es el número total de personas que fueron a estas salas?

2.- Observa el siguiente gráfico y elige las preguntas que pueden contestarse a partir del gráfico.



- a) ¿Cuántos helados de menta más que de chocolate se vendieron el jueves?
- b) ¿Cuántos helados de fresa se vendieron los tres primeros días?
- c) ¿Cuántos helados de chocolate se vendieron el martes por la mañana?
- d) ¿Cuántos helados de cada sabor se vendieron el sábado?
- e) ¿Cuántos helados de limón se vendieron el lunes?

3.- Observa el pictograma y completa los totales de la tabla.



ALUMNO	CANTIDAD DE FRUTA	TOTAL
Manuel		35
Isabel		<input type="text"/>
Roberto		<input type="text"/>
Consuelo		<input type="text"/>
Martín		<input type="text"/>
Maite		<input type="text"/>
Felipe		<input type="text"/>
Victoria		<input type="text"/>