

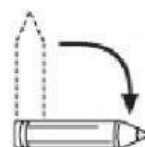


ACTIVIDADES: RECONOCER FIGURAS ROTADAS

Observa con atención, los tipos de giro que puedo hacer con mi lápiz

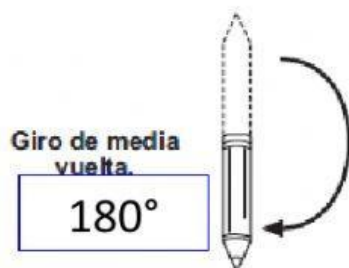


Posición inicial



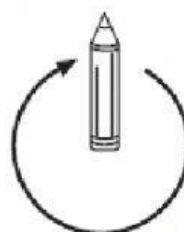
Giro de un cuarto de vuelta.

90°



Giro de media vuelta.

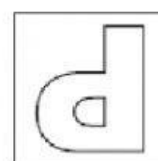
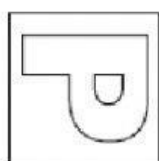
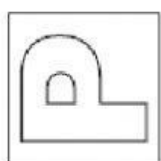
180°



Giro de vuelta completa

360°

1. Observa la letra P, marca con una X la rotación que se realizó:



- A) 90° a la izquierda
- B) 90° a la derecha
- C) 180° a la izquierda

- A) 90° a la izquierda
- B) 90° a la derecha
- C) 180° a la izquierda

- A) 90°
- B) 360° a la derecha
- C) 360° a la izquierda

- A) 180° a la izquierda
- B) 180° a la derecha
- C) 90° a la izquierda

2. Observa las siguientes figuras a las que se les ha aplicado una rotación entorno al punto indicado. Marca con una X la figura final que se obtiene luego de hacer la rotación indicada.

a) Giro en **90°** a la izquierda: 



b) Giro en **90°** a la derecha: 







c) Giro en **medio vuelta** hacia la derecha: 







d) Giro en **media vuelta** a la izquierda: 



e) Giro en una **vuelta completa**:



f) Giro en **90°** a la derecha:



g) Giro en una **vuelta completa**:

