

EVALUACIÓN DEL TERCER PARCIAL
PRIMER QUIMESTRE

DOCENTE:	BORBOR ARMENDÁRIZ MELANY NOEMÍ	NOMBRE DEL ESTUDIANTE:	
GRADO/CURSO:	GRADO 5	CALIFICACIÓN:	
ASIGNATURA:	COMPUTACIÓN	FECHA:	

Instrucciones

- 1.- El tiempo estimado para el desarrollo de la evaluación es de 35 minutos.
- 2.- La evaluación es individual y es para valorar sus conocimientos, por lo tanto, se prohíbe realizar consultas en internet o en el material de clases, durante el tiempo de la evaluación.
- 3.- Analice cada tema antes de contestar.

ÍTEM DE IDENTIFICACIÓN

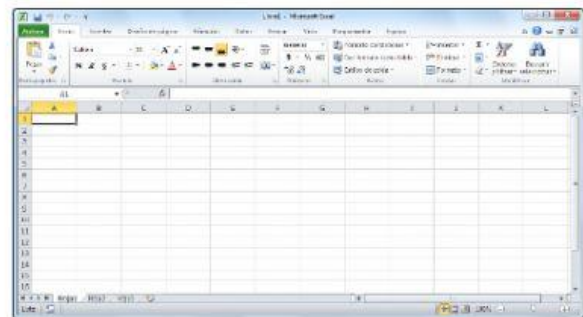
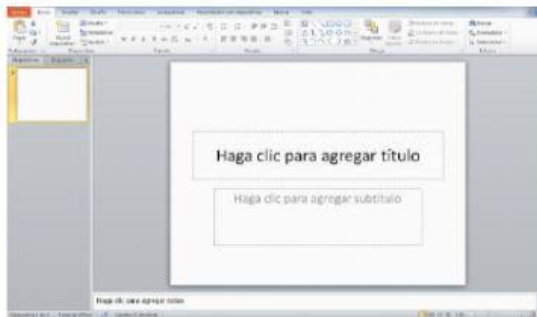
5 PUNTOS

1. SELECCIONA LA IMAGEN CORRECTA

a) ¿Qué ícono pertenece a Microsoft Excel?



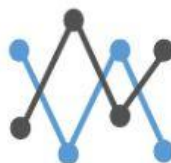
b) ¿Cómo es la interfaz de Microsoft Excel?



c) ¿Qué botón permite insertar un gráfico circular?



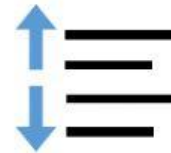
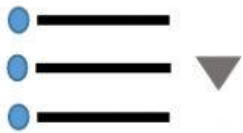
d) ¿Qué botón permite insertar un gráfico de barras?



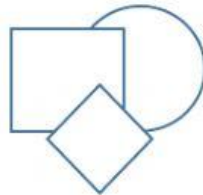
e) ¿Qué ícono pertenece a Microsoft Word?



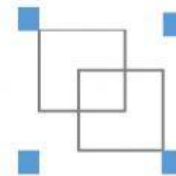
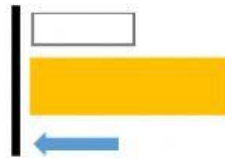
f) ¿Qué botón permite insertar viñetas?



g) ¿Qué botón permite insertar formas?



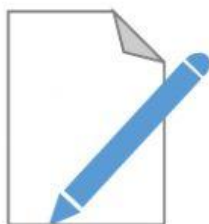
h) ¿Qué botón permite agrupar varias formas seleccionadas?



i) ¿Qué botón permite insertar WordArt?



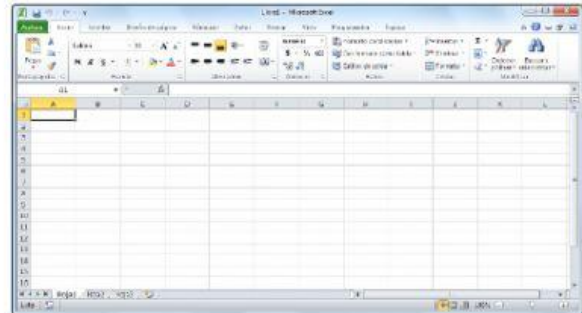
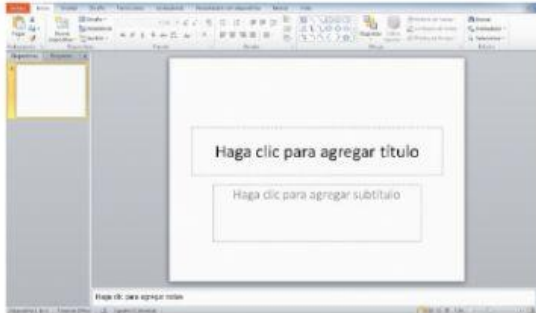
j) ¿Qué botón permite insertar Cuadro De Texto?



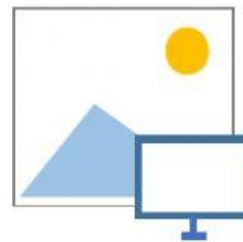

k) ¿Qué ícono pertenece a Microsoft Power Point?



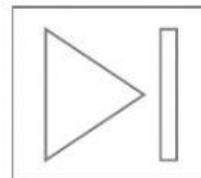
l) ¿Cómo es la interfaz de Microsoft Power Point?



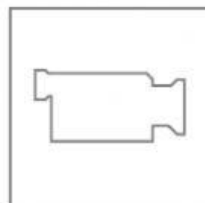
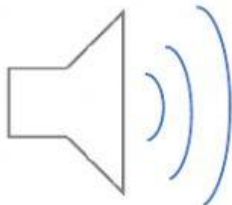
m) ¿Qué botón permite insertar imágenes de internet?



n) ¿Qué botón permite insertar nueva diapositiva?



ñ) ¿Qué botón permite insertar sonido a las transacciones?



ÍTEM DE COMPLETAMIENTO

2. LEE LOS ENUNCIADOS Y ESCOGE LA OPCIÓN CORRECTA

1,5 PUNTOS

a) Excel permite manipular _____ y _____.

Pistas: números - fotos - archivos – carpetas - datos

c) PowerPoint es un _____ que sirve para estructurar presentaciones a través de _____.

Pistas: programa – juego – hojas de cálculo – hojas en blanco - diapositivas

d) Sinónimo significa: _____ palabras con el mismo _____.

Pistas: mismas - diferentes - contexto - significado

ÍTEM DE SELECCIÓN

1,5 PUNTOS

3. LEE LOS ENUNCIADOS Y ESCOGE LA OPCIÓN CORRECTA

A) ¿Con qué signo empiezan todas las fórmulas de Excel?

= (igual)

- (menos)

+ (más)

B) Microsoft Excel es reconocido por su poderosa...

Hoja de dibujo

Hoja de borrador

Hoja de cálculo

C) Los operadores matemáticos son...

A, b, c, d, e

+ - / *

← ↑ → ↓

ÍTEM DE RELACIÓN DE CORRESPONDENCIA

1 PUNTO

4. ESCRIBE UNA LETRA EN LOS ESPACIOS VACÍOS PARA RELACIONAR CADA DEFINICIÓN CON SU NOMBRE.

A #¡DIV/0!

B # ¿NOMBRE?

C # ¡VALOR!

E #¡REF!.

Valor inválido

No encuentra la función especificada.

No hay referencia

Dividido por cero

ÍTEM DE EJECUCIÓN DE APRENDIZAJE

1 PUNTO

7. LEE EL EJERCICIO Y ESCRIBE LA FÓRMULA CORRECTA PARA RESOLVER LO.

	A	B	C	D	E	F
1	Doña Gabriela llamó a sus tres nietos para que la ayudaran recogiendo las manzanas de su árbol. Lee los siguientes datos y responde ¿Cuántas manzanas recolectaron en total?					
2						
3		Kheyns		30 manzanas		
4		Dereck		25 manzanas		
5		Kenny		21 manzanas		
6		TOTAL:				
7						
8						
9						

Respuesta:

<hr/> DOCENTE Prof. Borbor Armendáriz Melany	<hr/> COMISIÓN PEDAGÓGICA Ing. Yuliana Clemente P.	<hr/> DIRECTOR Ing. Gabriel Medina D.
---	--	---