



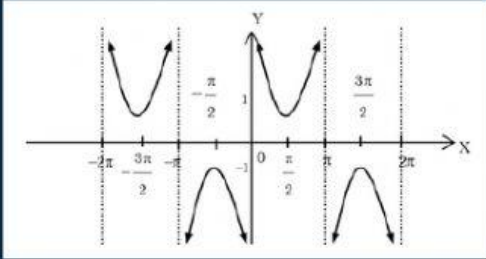
ชื่อ _____

ชั้น ม.5/ _____

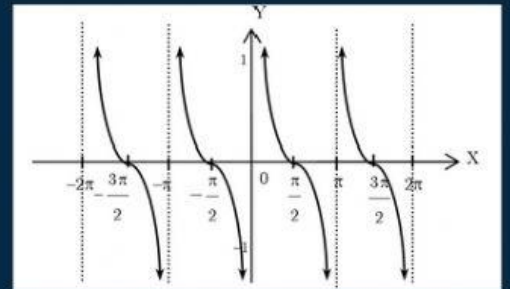
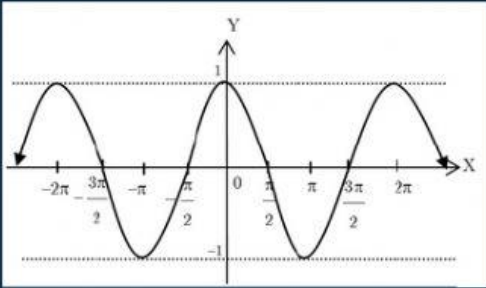
เลขที่ _____

* กราฟของฟังก์ชันตรีโกณมิติ

คำชี้แจง ให้นักเรียนจับคู่กราฟของฟังก์ชันตรีโกณมิติที่ถูกต้องที่สุดเพียงคำตอบเดียว



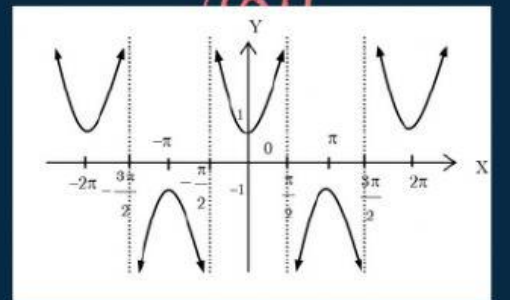
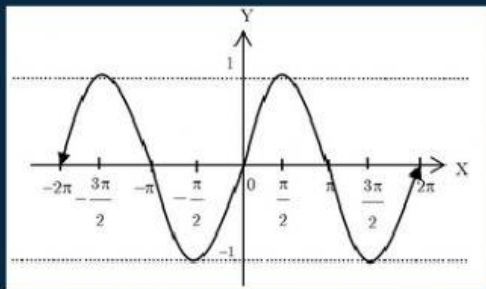
$y = \cos x$



$y = \csc x$

$y = \sec x$

$y = \tan x$



$y = \cot x$

$y = \sin x$

