

ชื่อ - นามสกุลชั้น.....เลขที่.....

ใบงานที่ 5 ความสัมพันธ์ระหว่างสเปกกับสเปสและสเปกกับเวลา

คำชี้แจง เติมชื่อรูปเรขาคณิต และรูปทรงเรขาคณิตได้ภาพ



ทรงกระบอก

ลูกบาศก์

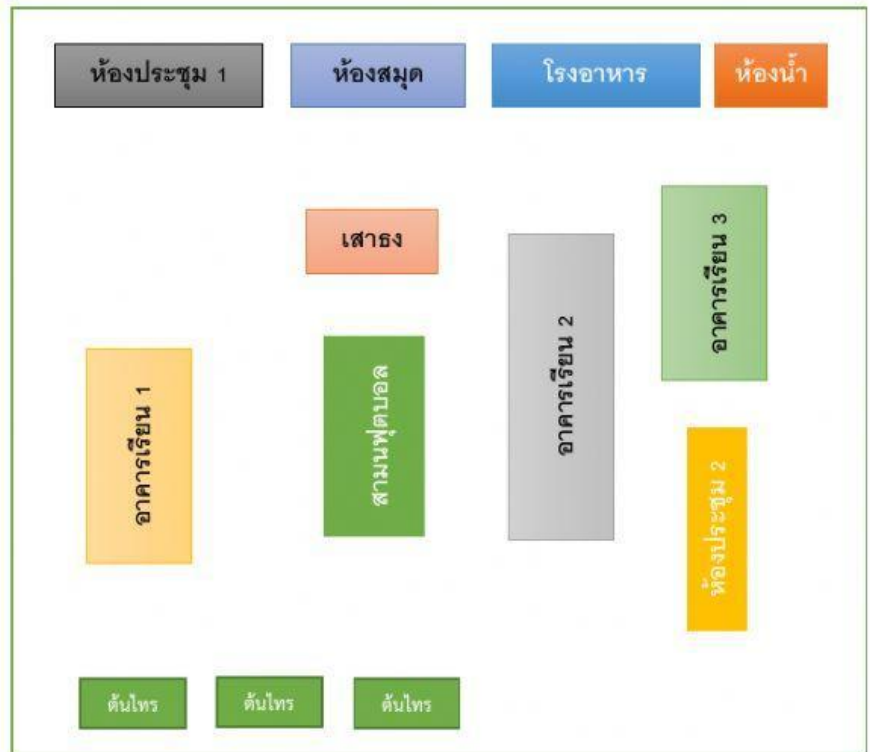
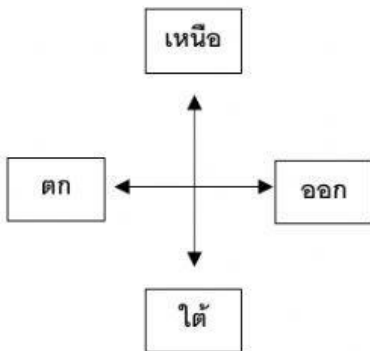
วงรี

สี่เหลี่ยมผืนผ้า

ทรงกรวย



คำชี้แจง นักเรียนศึกษาแผนผังแสดงที่ตั้งของโรงเรียนแห่งหนึ่ง แล้วตอบคำถาม



คำถาม

1. ห้องน้ำอยู่ทางทิศใดของโรงอาหาร
.....
2. อาคารเรียนมีทั้งหมดกี่หลัง
.....
3. ห้องสมุดอยู่ทางทิศใดของเสาธง
.....
4. อาคาร 1 อยู่ทางทิศใดของอาคาร 2
.....
5. ต้นไม้อยู่ทางทิศใดของสนามฟุตบอล
.....