



© Can Stock Photo - csp39402693



1) Calcula los segundos que son:

a) 3 min= _____ s

b) 5 min= _____ s

c) 15 min= _____ s

d) 20 min= _____ s

2) Expresa en minutos. Recuerda (media hora= 30 min, un cuarto de hora= 15 min y tres cuartos de hora= 45 min)

a) Tres horas y media= _____ min

b) 2 horas y 5 min= _____ min

c) 1 hora y media= _____ min

d) 1 hora y tres cuartos= _____ min

3) Expresa en horas:

180 min= _____ h

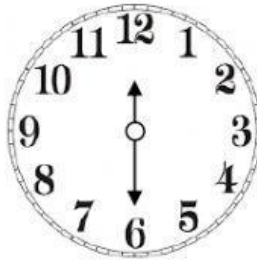
120 min= _____ h

420 min= _____ h


360 min= _____ h

4) Lee las siguientes horas en los relojes analógicos:














5) Arrastra las siguientes horas a sus relojes digitales (formato de 24 horas):

12: 15

13: 45

18: 00

12: 45

Una menos cuarto

Seis en punto

Doce y cuarto

Dos menos cuarto