

Números del 0 al 99

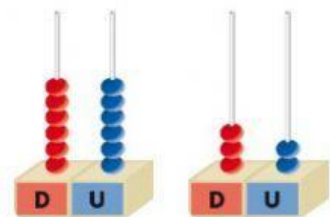
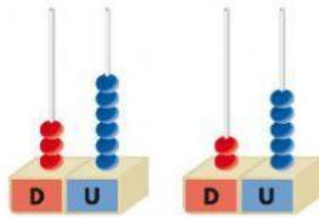
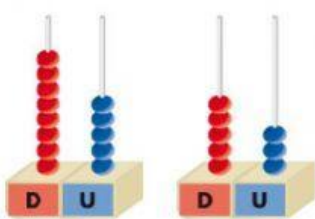
Descompón los siguientes números en unidades y decenas.

29 ⇒ D y U 55 ⇒ D y U 38 ⇒ D y U

34 ⇒ D y U 52 ⇒ D y U 97 ⇒ D y U

Restas sin llevar

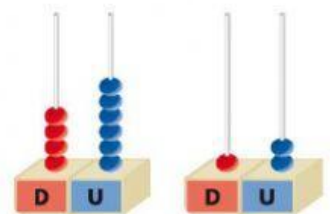
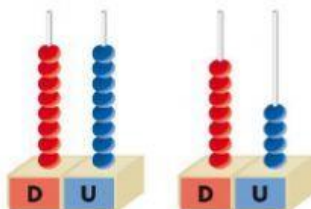
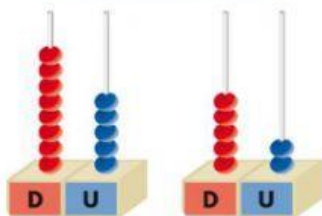
Introduce los números que aparecen en el ábaco y realiza la resta.



	D	U
-		

	D	U
-		

	D	U
-		



	D	U
-		

	D	U
-		

	D	U
-		