

EVALUACIÓN DE CIENCIAS NATURALES
AÑO LECTIVO 2021-2022
IQ

Nombre:

Fecha:

1. **Marca** el nombre de las corrientes marinas que llegan al Ecuador.




Corriente de Humboldt

Corriente Eléctrica

Corriente de Galápagos

Corriente del Niño

2. **Selecciona** los animales que pertenecen al ecosistema marino.



3. Lee y haz clic sobre las acciones correctas para proteger los océanos.

Disminuir el uso de cosas plásticas.

Derramar petróleo en los mares.

Arrojar basura de los buques.

Cuidar y mantener limpias las playas.

Realizar campañas para proteger la vida marina.



4. Lee y contesta V si es verdadero y F si es falso.

- ❖ Los animales vertebrados tienen esqueleto, huesos internos o cartilaginoso.
- ❖ Las mariposas y los gusanos son animales vertebrados.
- ❖ La vaca y el perro son animales invertebrados.
- ❖ Los invertebrados son animales que no tienen columna vertebral.

5. Lee y contesta.

¿Qué es la Geósfera?

6. Une cuáles son los elementos que forman parte de la Geósfera.



Oxígeno y Níquel

Níquel y Hierro

Hierro y Oxígeno

Helio y Níquel

7. Arrastra y completa con las palabras del recuadro.

espacio

ocupa

volumen

masa

La materia es todo lo que un lugar en el .

Sus propiedades comunes son: y .