

|  |   |   |                     |  |
|--|---|---|---------------------|--|
| ESCUELA DE EDUCACIÓN BÁSICA<br>"COMIENZOS"<br><br>LA LIBERTAD – ECUADOR<br>2021- 2022 | <b>ASIGNATURA: MATEMÁTICA</b>                     |   | <b>CALIFICACIÓN</b> |  |
|  | ESTUDIANTE:                                       |   |                     |  |
|  | DOCENTE: <b>Lcda. Mildred Moreno Córdova</b>      |   |                     |  |
|  | FECHA: <b>MIÉRCOLES 22 DE SEPTIEMBRE DEL 2021</b> |   |                     |  |
|  | TERCER GRADO                                      | EVALUACIÓN SUMATIVA<br>PRIMER QUIMESTRE |                     |  |

1) Observa los elementos de cada conjunto y escoge el signo correspondiente.


€

⊄


⊆





⊇

T



N



Al conjunto **T** ⊄

Al conjunto **T** ⊄

Al conjunto **N** €

Al conjunto **N** €

2) Marca con el número correctamente si PAR e IMPAR.

| NÚMEROS | PAR | IMPAR |
|---------|-----|-------|
| 268     |     |       |
| 912     |     |       |
| 139     |     |       |
| 347     |     |       |



5) Pulsa el audio para escuchar y escribe el número indicado.










6) Resuelve las sumas y restas.

|   | C | D | U |
|---|---|---|---|
| + | 6 | 8 | 4 |
|   | 3 | 0 | 2 |
|   |   |   |   |

|   | C | D | U |
|---|---|---|---|
| + | 5 | 3 | 7 |
|   | 1 | 6 | 0 |
|   |   |   |   |

|   | C | D | U |
|---|---|---|---|
| - | 3 | 6 | 8 |
|   | 1 | 4 | 7 |
|   |   |   |   |

|   | c | d | u |
|---|---|---|---|
| - | 1 | 8 | 9 |
|   | 1 | 5 | 2 |
|   |   |   |   |

